

2021年度第2回入学試験問題

社 会

「始め」の合図があるまでは問題を開いてはいけません。

注 意

1. 「始め」という合図で始め、「やめ」という合図で、すぐに鉛筆をおきなさい。
2. 問題は2ページから7ページまでです。
3. 解答用紙は問題冊子にはさまれています。
4. 初めに、解答用紙に受験番号、座席番号、氏名を記入しなさい。
5. 答はすべて解答用紙に記入しなさい。
6. 質問や用があるときは静かに手をあげなさい。

著作権の関係により、問題の一部を非公開としています。

〔4〕問3ウの人名の漢字に誤りがありましたので、訂正しております。  
なお、これに伴う合否への影響はございません。

〔1〕次の文章を読み、各問に答えなさい。

「エシカル」という言葉を聞いたことがありますか。エシカルとは「倫理的」という意味に訳されますが、現在は人、社会、地球環境、地域への配慮という観点で用いられており、人間中心主義的または経済成長至上主義的な価値観を見直さなければならないという考え方を土台にしています。

例えば、私たちの衣類の原料の1つである①綿花について、考えてみましょう。綿花栽培には多量の農薬が必要であり、世界の耕地面積の約2.5%が綿花畑ですが、かつて世界の殺虫剤の25%がこの栽培に使われ、現在でも16%が使われている、とされています。現在オーガニックコットンの生産は、全生産量のわずか0.8%に過ぎません。

しかしそもそもなぜ、ここまで綿花を大量に生産する必要があるのでしょうか。その背景の1つに、衣服の需要と供給のアンバランスがあります。例えば日本では、2015年には販売されている衣服の半分ほどしか消費されていません。安価な衣服を大量に作り続けた結果、余るようになったのです。また約40の発展途上国では、中古（リサイクル）の衣服の受け入れを禁止しました。果してこれで、循環型社会と言えるのでしょうか。

2015年9月、国連総会で「持続可能な開発目標（SDGs）」が採択され、17のスローガンが定められました。これは、2030年までに全世界が達成することが目標とされています。この中の「つくる責任、つかう責任」というスローガンは、まさにエシカルを表していると考えられます。（②）もその1つです。私たち自身が、それぞれの製品・産物の背景を考え、大切に使うことが、未来につながっていくのではないのでしょうか。

（数値は日本オーガニックコットン協会HPより）

問1 下線部①について、次の各問に答えなさい。

(1) 次のア～エの文は、「綿花、大豆、茶、カカオ」のいずれかの栽培条件をまとめたものです。このうち、綿花にあてはまるものを1つ選び、記号で答えなさい。

- ア 高温多雨地域で栽培する。直射日光と風を防ぐ母の木が必要で、とくに強風地域は栽培に不向きである。
- イ 生育期は高温多雨で、成熟期は乾燥を必要とする。無霧期間200日以上を必要とする。
- ウ 年中高温多雨を好むが、気候に対する適応力が高い。排水良好な丘陵地が栽培に向いている。
- エ 冷涼な気候を好むが、近年では熱帯でも栽培が広がっている。やせた土地でも栽培が可能である。

(2) 次の表1は、(1)の4つの作物について、世界の生産量上位5か国とその生産量の比率（単位：％）を示したものです。このうち綿花にあてはまるものを、【あ】～【う】から1つ選びなさい。また<A>・<B>にあてはまる国名を答えなさい。

表1

農産物	世界の生産量上位5か国（2017年）									
	1位		2位		3位		4位		5位	
茶	中国	40.3	<A>	21.7	ケニア	7.2	スリランカ	5.7	ベトナム	4.3
【あ】	<B>	33.9	ブラジル	32.5	アルゼンチン	15.6	中国	3.7	<A>	3.1
【い】	<A>	24.9	中国	23.1	<B>	16.1	パキスタン	7.7	ブラジル	5.2
【う】	コートジボワール	39.1	ガーナ	17.0	インドネシア	12.7	ナイジェリア	6.3	カメルーン	5.7

（FAOSTATより作成）

- (3) 日本では現在、衣類の原料となる繊維<sup>せんい</sup>作物の生産量はかなり少なくなりました。しかし、かつて世界に誇る<sup>ほこ</sup>品質と生産量をもつ繊維がありました。その繊維の生産地域に多く見られた土地利用を示す地図記号を次の中から1つ選び、記号で答えなさい。

ア	イ	ウ	エ
ヤ	ユ	ユ	ト

- (4) (3)の繊維産業はその後日本では衰退<sup>すいたい</sup>しました。その結果、(3)で答えた地図記号も2013年図式でなくなっていました。その衰退した理由を、国際競争力の観点から具体的に繊維名と国名を含めて説明しなさい。

問2 ( ② )には、「発展途上国の生産物を、生産者の生活を支援<sup>しえん</sup>するため、労働条件や環境保護などにも配慮しながら適正な価格で生産者から直接購入<sup>こうじゅう</sup>すること」という意味のカタカナの言葉が入ります。この言葉を答えなさい。

〔2〕次の文章を読み、各問に答えなさい。

皆さんは、「小倉百人一首」という歌集を知っていますか。

例えば、紀友則の「ひさかたの 光のどけき 春の日に しづ心なく 花の散るらむ」や、小野小町の「花の色は うつりにけりな いたづらに わが身世にふる なかめせしまに」などの歌が収められています。これは、天智天皇から順徳天皇に至る各時代の著名な歌人百人の歌を一首ずつ選び、京都嵯峨の小倉山荘の障子に貼ったと伝えられるところから名付けられました。また、「歌がるた」として近世以降庶民の間にも流行しました。諸説ありますが、この「小倉百人一首」は100首のうち40首ほどは、詠まれた場所や地名が特定できると言われています。

問1 文中の下線部について、その内訳を現在の都道府県別にまとめると、京都府と奈良県が10か所以上と圧倒的に多く、次いで滋賀県、大阪府、兵庫県、そして宮城県と続きます。茨城県、静岡県、和歌山県、鳥取県、島根県も登場しています。

表2はこのうち、「宮城県・茨城県・静岡県・和歌山県・鳥取県」のいずれかの県庁所在地における月平均気温と月降水量を表したものです。和歌山県の県庁所在地にあてはまるものを次のア～オから1つ選びなさい。

表2  
(上段が月平均気温(℃)、下段が月降水量(mm)、1981～2010年の平年値)

	1月	2月	3月	4月	5月	6月	7月	8月	9月	10月	11月	12月	全年
ア	4.0 202.0	4.4 159.8	7.5 141.9	13.0 108.6	17.7 130.6	21.7 152.1	25.7 200.9	27.0 116.6	22.6 204.0	16.7 144.1	11.6 159.4	6.8 194.0	14.9 1914.0
イ	1.6 37.0	2.0 38.4	4.9 68.2	10.3 97.6	15.0 109.9	18.5 145.6	22.2 179.4	24.2 166.9	20.7 187.5	15.2 122.0	9.4 65.1	4.5 36.6	12.4 1254.1
ウ	6.7 75.0	7.3 102.6	10.3 216.8	14.9 209.9	18.8 213.0	22.0 292.8	25.7 277.6	27.0 250.9	24.1 292.0	18.9 199.9	13.9 131.5	9.0 63.0	16.5 2324.9
エ	3.0 51.0	3.6 59.4	6.7 107.6	12.0 119.5	16.4 133.3	19.7 143.2	23.5 134.0	25.2 131.8	21.7 181.3	16.0 167.5	10.4 79.1	5.4 46.1	13.6 1353.8
オ	6.0 44.4	6.4 61.0	9.5 96.5	14.9 100.3	19.3 150.0	23.0 188.6	27.0 144.9	28.1 86.0	24.7 183.8	18.8 121.5	13.5 90.5	8.5 49.5	16.7 1316.9

(『地理統計要覧 2020年版』二宮書店より作成)

問2 詠まれた歌のうち、複数使われている地名として、「逢坂の関」・「難波瀉」・「吉野」などがあります。このうち「逢坂の関」は東海道と東山道の合する要地であり、畿内防備の三関の1つでした。この「逢坂の関」があった都市を次の中から1つ選び、記号で答えなさい。

ア 大津市    イ 米原市    ウ 宇治市    エ 長岡京市

問3 問2の「吉野」について、次の各問に答えなさい。

- (1) 吉野を流れる吉野川は、西隣<sup>どなり</sup>の県では名前を変えて流れ、県庁所在地で海に注いでいます。この西隣の県での呼び名を答えなさい。
- (2) 吉野は製材業も盛んです。この地は日本で最も古い人工林地帯にあり、固有<sup>ほごこう</sup>の芳香を有する樹木の産地として有名です。この樹木名を答えなさい。

問4 詠まれた歌の中には、1首の中に3つの地名が出てくる歌があります。

「大江山 生野の道の遠ければ まだふみも見ず ( X )」(小式部内侍)

「大江山」・「生野」はいずれも京都府福知山市付近で、さらに北上し、丹後半島まで出たところが ( X ) です。この ( X ) は京都府宮津市にある日本三景に数えられる地で、ある特徴<sup>とくちようてき</sup>的な景観が有名です。この場所の写真を次の中から1つ選び、記号で答えなさい。

著作権の関係により、  
写真を非公開としています。



イ

著作権の関係により、写真を非公開としています。



〔3〕次の文章を読み、各問に答えなさい。

日本において初めて発行された銅銭と考えられているのが、天武天皇の在位中に<sup>ちゅうぶてう</sup>鑄造されたと見られる（あ）です。ただしこれはあまり流通しなかったと考えられています。708年になると、有名な（い）が鑄造されました。

（う）国の秩父地方から朝廷に銅が<sup>けんじょう</sup>献上されたことでつくられたと伝わり、（え）天皇の在位中に行われた平城京の造営・遷都の際に、動員された人々に賃金として支払われたと見られています。①律令国家となった日本ではこれ以後も平安後期までにたびたび銅銭が鑄造されましたが、全国的な流通貨幣となるまでには至りませんでした。

12世紀になると②平清盛が銅銭を  しました。これ以後、室町時代まで同じような状態が続きます。③戦国時代に入ると、各地で金山・銀山の開発が進んだこともあって、銅銭の他に金貨や銀貨も使用されるようになりました。④江戸時代には金・銀・銅の三貨を併用する状態が定着し、三貨の交換や預金・貸し付けといった業務を行う（お）も現れました。

明治時代に入ると⑤1871年に新貨条例が出されて欧米同様に十進法が導入され、単位も改められて現在の通貨制度にかなり近づきました。昨今ではさらにキャッシュレス化が進み、電子マネーや、さらにはビットコインに代表されるいわゆる（か）通貨も普及してきています。

問1 文中の（あ）～（か）にあてはまる言葉を漢字で答えなさい。

問2 下線部①について、律令国家についての説明として誤っているものを次の中から1つ選び、記号で答えなさい。

- ア 大宝律令は、中臣鎌足の子である藤原不比等らによって編さんされた。
- イ 律とは現在で言う刑法にあたり、令とは行政法であった。
- ウ 中央政治の機関として二官八省が置かれたが、八省の中には大蔵省や神祇省があった。
- エ 律令制下で民衆に課された税としては、特産物や布を納める調などがあった。

問3 下線部②について、清盛はどのように銅銭を調達したか、文中の  にあてはまるように、5字以上8字以内で答えなさい。

問4 下線部②について、平氏についての説明として誤っているものを次の中から1つ選び、記号で答えなさい。

- ア 平清盛は、武士としてはじめて太政大臣の地位についた。
- イ 平氏は、藤原氏と同じように一族の娘を天皇のきさきにすることで権力を握った。
- ウ 平氏と源氏の戦いである屋島の戦いが行われたのは、現在の香川県である。
- エ 平氏は、世界遺産にもなっている備前国の厳島神社を崇拝し、経典などを納めていた。

問5 下線部③について、日本で16世紀前半に発見されたと言われ、当時世界有数の産出量を誇り、世界遺産にも登録された鉱山の名称と、所在する都道府県名をそれぞれ漢字で答えなさい。

問6 下線部④について、江戸時代に日本で鑄造された銅銭を次の中から1つ選び、記号で答えなさい。

著作権の関係により、  
写真を非公開として  
います。

イ



著作権の関係により、  
写真を非公開としています。

問7 下線部⑤について、1871年に起こったことを次の中からすべて選び、記号で答えなさい。

- ア 廃藩置県    イ 版籍奉還    ウ 岩倉使節団出発    エ 学制公布    オ 徴兵令公布

問8 下線部⑤について、新貨条例によって導入された通貨の単位を次の中からすべて選び、記号で答えなさい。

- ア 両    イ 厘    ウ 円    エ 貫    オ 銭    カ 文

〔4〕 昨年は、新型コロナウイルスの感染拡大をきっかけに内閣総理大臣はもちろん、各都道府県知事の存在感が増しました。国や地方の政治について、各問に答えなさい。

問1 次の(1)～(5)のA・Bの文がそれぞれ正しいか、誤っているかを判断し、その正誤の組み合わせとして適切なものを次のア～エの中から1つ選び、記号で答えなさい。





- ア A正 B正    イ A正 B誤    ウ A誤 B正    エ A誤 B誤

- (1) A 内閣総理大臣は最高裁判所の裁判官を任命する。  
B 知事は地方裁判所の裁判官を任命する。
- (2) A 衆議院あるいは参議院で内閣不信任決議が可決された場合、内閣総理大臣は国会を解散することができる。  
B 議会で知事に対する不信任決議が可決された場合、知事は議会を解散することができる。
- (3) A 内閣総理大臣の任期は定められておらず、再選は何回でも可能である。  
B 知事の任期は4年で、再選は何回でも可能である。
- (4) A 内閣総理大臣が国のいろいろな問題について国民の意見を聞くため、国民投票制度が法律で制定された。  
B 知事が自治体のいろいろな問題について住民の意見を聞くため、住民投票制度が法律で制定された。
- (5) A 国民は内閣総理大臣に対して辞職するように求める解職請求権を持っている。  
B 住民は知事に対して辞職するように求める解職請求権を持っている。

問2 1999年に国に集中していた権限や財源を地方自治体に移す法律が制定されてから、都道府県の仕事が大きく変わり、知事のリーダーシップがより問われるようになりました。この法律は、地方自治法（ふく）を含め475の法律が（いっ）一括して改正されたことから、一般に何とされていますか。次の中から1つ選び、記号で答えなさい。

- ア 地方分散一括法    イ 地方集中一括法    ウ 地方分権一括法    エ 地方集権一括法

問3 下の写真の中から東京圏（けん）（東京都・埼玉県・千葉県・神奈川県）の知事ではない人物を1人選び、記号で答えなさい。

ア	イ	ウ	エ	オ
				
大野 元裕	森田 健作	黒岩 祐治	吉村 洋文	小池 百合子

(各自治体HPより)

問4 「日本に住む人や世帯」について知ること、生活環境の改善や防災計画などの様々な施策に役立てられる調査が、昨年で実施100年の節目を迎えました。この5年に一度実施されている重要な統計調査の名称を漢字4字で答えなさい。

問5 昨年、政府は新型コロナウイルスの感染拡大により打撃を受けている観光業や飲食業を支援するため、需要を喚起する政策として「Go To キャンペーン」を始めました。そのキャンペーンは大きく分けて4つありますが、それぞれ担当する省庁が違います。次のキャンペーンを所管(担当)する省名を省略せずに漢字で答えなさい。

- (1) 旅行代金等を補助する「Go To トラベル キャンペーン」
- (2) 飲食代金等を補助する「Go To イート キャンペーン」

〔 以下 余 白 〕

2021年度 第2回	社 会	受験番号		座席番号		氏 名	

〔1〕

問1 (1)	(2)	A	B	(3)	
(4)					
問2				小計	

〔2〕

問1	問2	問3 (1)	(2)	問4	
小計					

〔3〕

問1あ	い	う	え	
お	か	問2		
問3				
問4	問5 鉱山名	都道府県名		
問6	問7	問8		
小計				

〔4〕

問1 (1)	(2)	(3)	(4)	(5)	問2	問3	
問4				問5 (1)	(2)		
小計							

合 計	
--------	--