

2022年度第1回入学試験問題

社 会

「始め」の合図があるまでは問題を開いてはいけません。

注 意

1. 「始め」という合図で始め、「やめ」という合図で、すぐに鉛筆をおきなさい。
2. 問題は2ページから7ページまでです。
3. 解答用紙は問題冊子にはさまれています。
4. 初めに、解答用紙に受験番号、氏名を記入しなさい。
5. 答はすべて解答用紙に記入しなさい。
6. 質問や用があるときは静かに手をあげなさい。

著作権の関係により、問題の一部を非公開としています。

〔1〕次の文章を読み、各問に答えなさい。

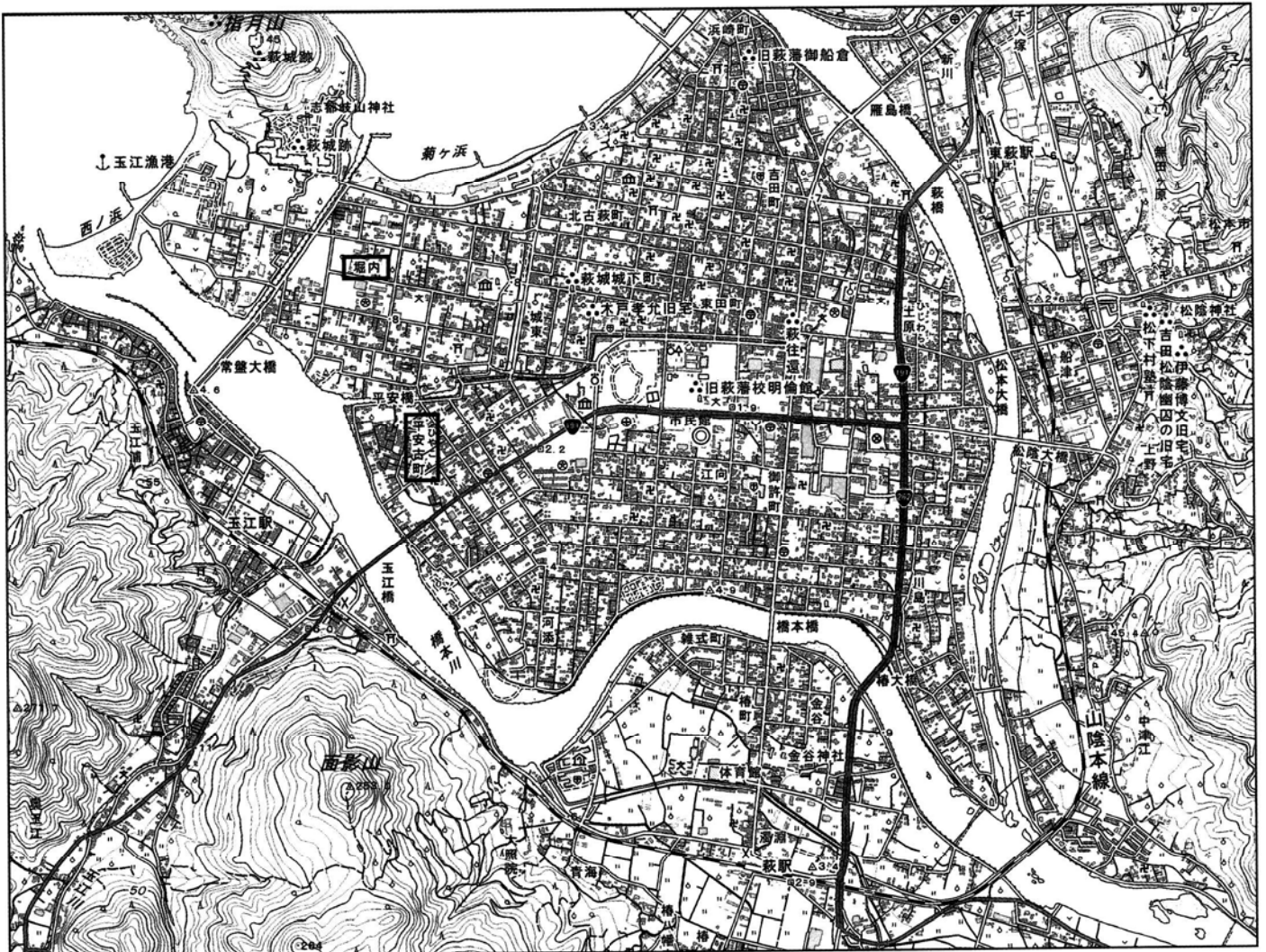
夏休みのある日、幸さんの家に、萩市に住むおばあちゃんから荷物が届きました。段ボールの中にはおばあちゃんからの手紙と①萩市の地形図と写真が入っていました。

元気になっていますか？今年こそ、お盆休みにさっちゃんたちにいっぱいおいしいものを食べさせてあげたかったんやけど、帰って来られないみたいだから、萩のものを送るね。さっちゃんの好きな②瓦そばセットを入れておいたよ。③瀬つきアジの南蛮漬、アマダイの煮付けを作ったから、みんなでいっしょに食べてね。お父さんの大好物だから。それと④萩焼のブローチを作ってみたからいっしょに送るね。気に入ると良いな。

お母さんから、さっちゃんが夏休みの自由研究で、萩のことを調べて発表すると聞きました。萩市の地形図と写真を入れておくから、良かったら使ってね。お正月には、みんなで遊びに来てね。体に気をつけてね。

問1 下線部①に関して、次の地形図を参照しながら、各問に答えなさい。

国土地理院 1/25000 地形図「萩」より



(1) 萩市の中心街はどのような地形上に立地していますか。漢字で答えなさい。

(2) 地形図中の松陰大橋から西へ直進し、玉江橋に至る道路沿いには見られない地図記号を次の中から2つ選び、記号で答えなさい。

- ア 警察署 イ 消防署 ウ 神社 エ 博物館 オ 病院

(3) 地形図中の「堀内」や「平安古町」には、右の写真のような鉤の手に曲がった街路や丁字路が見られます。なぜこのような街路がつけられたのか、その役割を説明しなさい。



(4) 地形図中の「堀内」や「平安古町」では、○の地図記号が多く見られます。その背景について述べた文として、最もふさわしいものを次の中から1つ選び、記号で答えなさい。

- ア 世界遺産に指定されたため、観光客向けに温室を利用したイチゴの抑制栽培を行うようになりました。
- イ 石油危機で燃料費が高騰し、生活に困った漁師たちが、副業として沿岸部に広がる砂丘上でチューリップの栽培を行うようになりました。
- ウ 日韓国交正常化後、地理的に近い韓国との交流がさかんになり、キムチ用の白菜の栽培が広まりました。
- エ 廃藩置県後、困窮する士族たちを救うため、温暖な気候と広い武家屋敷地を利用した夏みかんの栽培が行われるようになりました。

(5) 地形図から読み取れることとして、最もふさわしいものを次の中から1つ選び、記号で答えなさい。

- ア 堀内地区と市役所周辺の標高を比べると、堀内地区の方が低地にあります。
- イ 面影山の東斜面と西斜面では、西側斜面の方が傾斜が緩やかです。
- ウ 旧萩藩校明倫館から見て、萩城跡は北東方向にあります。
- エ 市役所は鉄道の駅の近くにあり、駅を中心に発達した街だと分かります。

問2 下線部②に関して、瓦そばとは、熱した瓦に茶そばをのせ、牛肉・錦糸卵・ねぎ・レモン・もみじおろし等を添え、つゆをつけて食べる郷土料理です(写真)。次の表は、瓦そばの食材のうち、そば、鶏卵、ねぎ、レモンのいずれかの生産量と肉牛の飼育頭数の上位4位までの都道府県を示しています。そば、鶏卵にあてはまるものをそれぞれ選び、記号で答えなさい。

著作権の関係により、
写真を非公開として
います。

	ア	イ	ウ	エ	オ
1位	広島県	北海道	千葉県	茨城県	北海道
2位	愛媛県	鹿児島県	埼玉県	鹿児島県	長野県
3位	和歌山県	宮崎県	茨城県	千葉県	山形県
4位	宮崎県	熊本県	群馬県	岡山県	栃木県

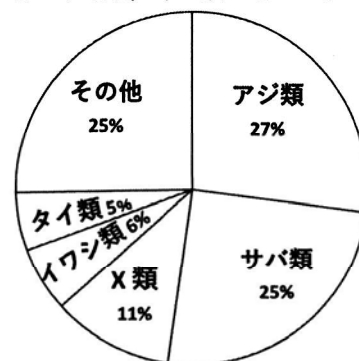
『データでみる県勢 2021』
及び農林水産省 HP より作成

問3 下線部③に関して、萩沖では、「瀬」や「グリ」と呼ばれる海底の岩礁に、魚がたくさん集まることが知られています。例えば、海流に乗って萩沖合にやってくるアジは、「瀬」にとどまってたつぷりとエサを食べ、「瀬つきアジ」という脂ののった魚になります。

(1) 萩市の沖合を流れる海流名を漢字で答えなさい。また、この海流が暖流である場合は1、寒流である場合は2と答えなさい。

(2) 右の円グラフは、2018年の萩市の魚種別漁獲量における魚類の内訳を示しています。円グラフ中のXの魚を、次の中から1つ選び、記号で答えなさい。

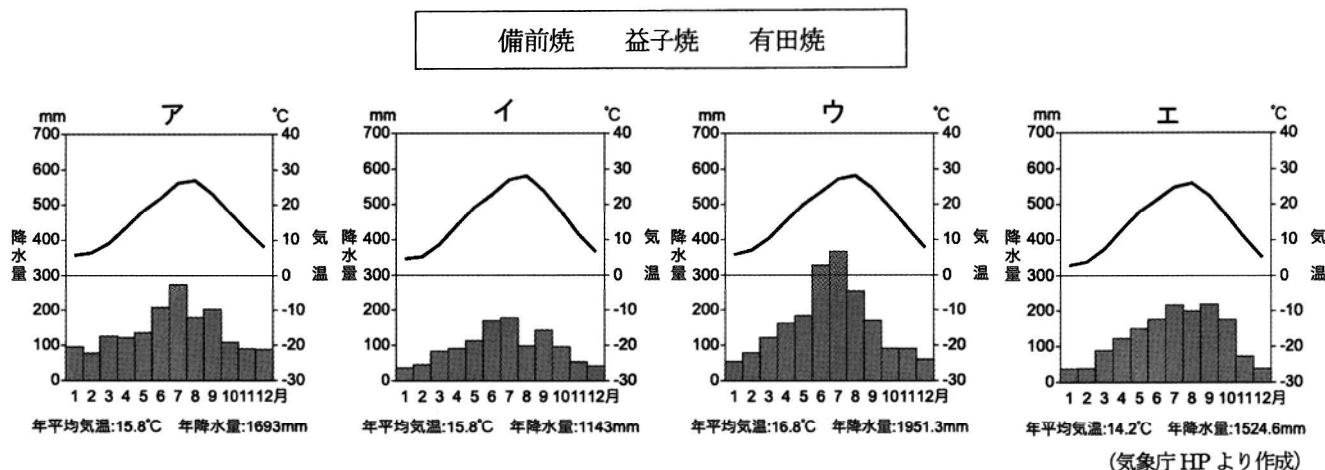
- ア サンマ イ ブリ ウ サケ エ マグロ



(農林水産省 HP より作成)

(3) 近年、日本各地でアジなどの漁獲量が減少しており、大切な漁業資源を守るための取り組みが行われています。萩市でもトラフグ、ヒラメ、マダイ等の稚魚の放流に取り組んでいます。このように、稚魚を育成して川や海に放流し、成魚を漁獲することを何といいますか。漢字で答えなさい。

問4 下線部④に関して、萩焼はこの地域で作られる陶磁器です。次の雨温図は、萩市と下の枠内の陶磁器の産地がある都道府県の県庁所在地における気温と降水量の変化を示しています。このうち、萩市の雨温図を次の中から1つ選び、記号で答えなさい。



〔2〕次の文章を読み、各問に答えなさい。

2021年8月、12歳になった小学校6年生の礼二くんは、お父さんと一緒に、東京国立博物館の特別展「聖徳太子と(A)」を見学しました。帰宅後、2人は特別展に関連した話をしました。

礼二：博物館は広かったね。東京国立博物館はいつできたの？

父：湯島聖堂で博覧会が開催された①1872年が創立の年とされているよ。その後、博物館は現在の所在地である上野公園に移った。上野公園の地は、江戸時代は全て寛永寺というお寺だった。寛永寺の山号は「東叡山」で、「東の比叡山」という意味だから、寛永寺は(B)宗のお寺ということになる。

礼二：特別展で見てきた聖徳太子といえ、(C)馬子と協力して冠位十二階を定めるなど、天皇中心の国づくりをめざして政治の改革を進めたよね。

父：天皇を頂点とする中央集権国家が完成するまでには長い時間がかかったよ。律令制定後も、朝廷は、②先祖代々各地を治めてきた地方豪族を役人に任命し、彼らの力に依存して全国を支配した。地方豪族の先祖のなかには、弥生時代に③卑弥呼に従った「くに」の王だった者もいたかもしれない。

礼二：聖徳太子が建立した(A)についてもいろいろ知りたくなってきた。

父：720年に完成した歴史書『(D)』には、天智天皇の時代に(A)が全焼したと書かれている。そのため、現在の(A)の建物が、聖徳太子が建立した当時のものか、再建されたものか論争が続いていたのだけど、発掘調査によって再建されていたことが確定した。

礼二：(A)金堂壁画も天智天皇の時代に燃えてしまったの？

父：金堂の壁画は再建された後の(A)に描かれたものだ。しかし、④1949年に金堂壁画は焼損してしまった。特別展では1940年から行われていた模写作業でつくられたものが展示されていたよ。ところで、伝説や信仰も歴史を考えるうえでは重要だ。平安時代以降、聖徳太子は救世観音の化身とされて多くの人びとの信仰を集めた。

礼二：⑤平安時代や鎌倉時代、室町時代に制作された展示品も多かったのはそのためだね。

父：江戸時代の後半、幕府が（ E ）の改革を行っていた1842年には、（ A ）の宝物が江戸に運ばれ、奈良時代に作成された聖徳太子の肖像画が模写されている。特別展にもこの模写が出品されていたよね。

礼二：紙幣に使われた聖徳太子の像は、この奈良時代の肖像画からとられたものだよ。

父：明治時代以降も、聖徳太子は偉人と考えられていたということだろうね。

⑥聖徳太子を肖像とする5000円札と1万円札の発行が停止されたのは、
お父さんがちょうど今の礼二と同じ年齢だった1986年1月のことだよ。

著作権の関係により、
写真を非公開として
います。

旧1万円札

問1 （ A ）～（ E ）にあてはまる言葉を漢字で答えなさい。

問2 下線部①に関して、1872年に出された学制は、義務教育の出発点になりました。明治時代の義務教育について、
解答欄に合うように言葉を答えなさい。

問3 下線部②に関して、この役人の名称として正しいものを次の中から1つ選び、記号で答えなさい。

ア 地頭 イ 国司 ウ 郡司 エ 防人

問4 下線部③に関して、卑弥呼が魏の皇帝から与えられた称号として最もふさわしいものを次の中から1つ選び、
記号で答えなさい。

ア 邪馬台国国王 イ 倭王 ウ 大王 エ 日本国王

問5 下線部④に関して、1940年から1949年までに起こった出来事として正しいものを次の中から4つ選び、年代順
に並べかえて記号で答えなさい。

- ア 日本国憲法の施行によって、女性参政権が実現しました。
- イ アメリカ軍によって、広島・長崎に原子爆弾が投下されました。
- ウ 日本の陸軍がマレー半島を、海軍が真珠湾を奇襲攻撃しました。
- エ 毛沢東を主席とする中華人民共和国が成立しました。
- オ ソビエト連邦の支援によって、朝鮮半島南部に大韓民国が成立しました。
- カ 日本・ドイツ・イタリアの間で三国軍事同盟が結ばれました。

問6 下線部⑤に関して、平安時代から室町時代までの出来事について述べた文として、正しいものを次の中から1つ
選び、記号で答えなさい。

- ア 平安時代、天皇のきさきに仕えた紫式部は、『枕草子』という随筆を書きました。
- イ 鎌倉時代、執権の北条泰時は、朝廷が行う裁判の基準として御成敗式目を定めました。
- ウ 鎌倉時代、幕府は、御家人になっていなかった武士たちにも元と戦うように求めました。
- エ 室町時代、琉球王国は日本や宋、朝鮮、東南アジアの国々との貿易で栄えました。

問7 下線部⑥に関して、礼二くんのお父さんが生まれた年と最も近い年に起きた出来事を次の中から1つ選び、記号
で答えなさい。

- ア 男女雇用機会均等法が公布されました。
- イ 日本の国民総生産の額が、初めて世界第2位になりました。
- ウ 元号が昭和から平成に変わりました。
- エ 沖縄が日本に復帰し、沖縄県となりました。

〔3〕次の文章を読み、各問に答えなさい。

新型コロナウイルスの感染が広がり、国民の健康と生活を守るための①さまざまな取り組みが行われている中で、政治の役割があらためて問われています。そうした中で、②生活に困ったりするのは個人の責任であり、あくまで個人の努力でやっていくべきだという、1980年代から強まった考え方を見直す動きが現れています。

国民一人一人の命や生活を大切にしていこうという政治のあり方は、1990年代以後唱えられてきた、人間一人一人に注目し、貧困・環境破壊・感染症・自然災害などの脅威から各個人を守る取り組みが平和で安全な世界をつくるという「人間の安全保障」の考えに通じるものがあります。

一方で、③自国の利益だけを最大限追求しようという動きや、核兵器の削減や廃絶に逆行する動きが出てきているのは心配なことです。日本国憲法の、基本的人権の尊重や平和主義などの原則を私たちがどのように活かすかが問われているとっていいでしょう。

問1 下線部①に関して、次の問に答えなさい。

(1) 次の文の空欄にあてはまる言葉を下から1つずつ選び、記号で答えなさい。

2020年から2021年にかけて新型コロナウイルス感染症対策のため、いくつかの法改正が行われました。その中で、事業者^{しんがい}に営業時間の短縮などを命令できるようにしましたが、日本国憲法第29条の(A)権にもとづく営業の自由を侵害するのではないかと意見があります。一方、第29条には(A)権を制限できる「公共の福祉」という言葉がありますが、その場合でも「正当な補償」が必要であるとされます。

また、入院措置^{そち}に応じない人に罰則^{ばつそく}を科すことも可能にしましたが、人権侵害をまねかないよう、慎重な運用^{しんちょう}が求められます。それは、日本で過去に、(B)にかかった人々が法律によって強制的に療養所^{りょうよう}に入れられ、その必要性がないことがわかってからもこの政策が見直されなかったために、差別や偏見^{へんけん}に苦しめられた事例があるからです。

ア 勤労 イ 経済 ウ 財産 エ 社会
オ コレラ カ 天然痘^{とう} キ ハンセン病 ク 水俣病

(2) 新型コロナウイルス感染症対策のために補正予算がつくられました。国の予算について述べた文として、正しいものを次の中から1つ選び、記号で答えなさい。

ア 国の各機関から提出された翌年度の要望をまとめて予算を作成し、国会に提出するのは財務省の仕事です。

イ 予算は国の方針に関わるものなので、国会に提出されるとまず衆議院の国家基本政策委員会^{しんぎ}で審議^{しんぎ}されます。

ウ 予算について衆議院と参議院が異なった議決をして両院協議会でも一致しないときには、衆議院の議決^{いち}が国会の議決となります。

エ 一度決まった予算を年度途中に変更する補正予算は、国会の議決を経ずに内閣の責任で決めることができます。

問2 下線部②に関して、次の問に答えなさい。

(1) このような考え方は、政府の役割を減らす政策と結びついています。次の各文は、この30年間の政府に関する数字の変化を述べたものです。下線部が誤っているものを1つ選び、記号で答えなさい。

ア 1980年代の歴代内閣では20人だった国務大臣(内閣総理大臣を除く)の数はその後、中央省庁再編のために減らされましたが、2020年9月に発足した菅義偉内閣では特別法などにより20人となっています。

イ 1989年(平成元年)4月に3252あった市町村の数は、「平成の大合併」もあり、2021年4月には大幅に減っています。

ウ 1989年度の国の歳出で約12兆円だった社会保障費は、高齢化もあり、2019年度には大幅に増えています。

エ 1989年に全国で848カ所におかれていた保健所は、感染症対策のために2020年12月にはそれより100カ所以上増えています。

(2) 日本国憲法ではこのような考え方とは逆に、貧困は個人の力だけで解決するには難しい面があり、社会全体で解決すべき問題であるという考え方をとっています。そのことを最もよく表している憲法の条文を、次の中から1つ選び、記号で答えなさい。

ア 公務員を選定し、及びこれを罷免することは、国民固有の権利である。

イ すべて国民は、健康で文化的な最低限度の生活を営む権利を有する。

ウ 何人も、公務員の不法行為により、損害を受けたときは、法律の定めるところにより、国又は公共団体に、その賠償を求むることができる。

エ この憲法が国民に保障する自由及び権利は、国民の不断の努力によつて、これを保持しなければならない。

問3 下線部③に関して、次の問に答えなさい。

(1) 次の文の空欄 (A) (B) にあてはまる言葉を下から1つずつ選び、記号で答え、【 X 】にあてはまる言葉を漢字5字で答えなさい。

今後の世界での主導権をめぐる米国と中国の争いが目立つようになり、東アジアでも緊張が高まる可能性があります。特に、「一国二制度」をかかげて高度な自治を約束されていたはずの (A) で言論や政治活動の自由が制限されるようになり、それと関連して (B) の今後の注目がされています。

2021年4月、日米首脳会談の共同声明で「(B) 海峡の平和と安定の重要性を強調する」とされたことに中国は反発しています。万が一、(B) をめぐって米中の軍事衝突が起きた場合、2015年に【 X 】権の限定的な行使を認めた日本は難しい立場に立たされることが考えられます。

ア 台湾 イ 香港 ウ 尖閣 エ 千島
オ チベット カ ウイグル キ マラッカ ク ホルムズ

(2) 2020年10月25日、ある条約の批准国・地域が条約の発効に必要な50に到達しました。次の文は、この条約ができた背景について中満泉国連事務次長が語ったことの抜粋です。文中の【 Y 】にあてはまる条約の名称を解答欄に合うように漢字で答えなさい。

条約ができた背景には、近年、核兵器がもたらす「壊滅的な人道的結末」に焦点が当たるようになったこと、核兵器をめぐる国際環境が非常に悪くなったことなどがありますが、核保有5大国による核軍縮が遅々として進まないことへの不満が高まったことが大きいと思います。とりわけ、【 Y 】再検討会議の交渉が決裂した2015年は転換点でした。

【 Y 】は、米露英仏中に永遠に核兵器の保有を認めるものではありません。第6条では核軍縮交渉を誠実に行う義務を定めています。しかもこの第6条は、核保有5大国が単に交渉をすればいいというものではないのです。1996年の国際司法裁判所の勧告では、全面的な核軍縮に向けて交渉を完結させる義務を負っていると踏み込んで指摘しています。

核保有国が国際法上の義務を負っている核軍縮が遅々として進んでこなかったこと、むしろ逆方向に進んでいること。それがこの条約ができた背景にあるということは、重く受け止めるべきではないでしょうか。

(『毎日新聞』 2021年1月22日から)

[以下余白]

2022年度 第1回	社 会	受験 番号				氏 名	
---------------	-----	----------	--	--	--	--------	--

[1]

問1 (1)		(2)			
(3)				(4)	(5)
問2 そば	鶏卵	問3 (1) 海流		番号	(2)
問3 (3)		問4			

小計	
----	--

[2]

問1A		B	宗	C	馬子
D		E		の改革	
問2			が	に通う。	問3
問4	問5	→	→	→	問6
				問7	

小計	
----	--

[3]

問1 (1)A	B	(2)	問2 (1)	(2)	問3 (1)A	B
問3 (1)X			権	(2)	条約	

小計	
----	--

合 計	
--------	--