

2022 年度第 2 回入学試験問題

社 会

「始め」の合図があるまでは問題を開いてはいけません。

注 意

1. 「始め」という合図で始め、「やめ」という合図で、すぐに鉛筆をおきなさい。
2. 問題は2ページから7ページまでです。
3. 解答用紙は問題冊子にはさまれています。
4. 初めに、解答用紙に受験番号、座席番号、氏名を記入しなさい。
5. 答はすべて解答用紙に記入しなさい。
6. 質問や用があるときは静かに手をあげなさい。

著作権の関係により、問題の一部を非公開としています。

〔 1 〕 次の文章を読み、各問に答えなさい。

小学6年生の和也君は、夏休みの宿題として、家族で見た東京オリンピックの開会式について作文を書きました。

夏休み、僕が最も印象に残っているのは、①東京オリンピックの開会式です。特に、選手入場の時に僕の大好きなゲームの音楽が流れ、とてもうれしかったです。最初に入場したのは、ギリシャの選手団でした。オリンピックは、古代ギリシャで行われていた神々を讃えるスポーツの祭典がルーツだそうです。②第1回オリンピックが開催されたのもギリシャにある（ X ）という都市でした。次に入場したのは、難民選手団でした。前回のリオデジャネイロ大会で初めて結成されたそうです。続いて、国名の五十音順に選手団が入場してきました。その様子を見て、僕は2つのことに興味を持ちました。1つ目は、③国旗です。同じ宗教を信仰する国々や、歴史的に関係の深い国同士で似たようなデザインが用いられていて、関連性を調べてみたくなりました。中には、旗の中に大切な言葉が書かれている国旗や、山脈の形をした国旗など、めずらしい国旗もありました。2つ目は、入場の際に、④「1964年の東京大会で初めてオリンピックに参加しました」と紹介される国がとても多かったことです。この大会では、どんな競技が行われるのかを、世界各国から来日する選手や観客に一目で伝えるために、⑤ピクトグラムが初めて導入されたそうです。2021年の開会式では、実施される競技が、動くピクトグラムで紹介され、とても面白かったです。新型コロナウイルス感染症の影響でほとんどの試合が無観客で行われ、楽しみにしていた⑥サッカーの試合はテレビでの観戦となりました。それでも、僕にとっては良い思い出になりました。

問1 下線部①に関して、開会式は、2021年7月23日20時から東京で行われ、全世界に中継されました。この時、2028年のオリンピック開催地であるロサンゼルスでは、何日の何時でしたか、解答欄に合うように24時間表記で答えなさい。なお、ロサンゼルスは西経120度の標準時で動いていますが、この時期はサマータイムで1時間、時刻を早めています。

問2 下線部②に関して、右図は、ある国際組織のロゴで、（ X ）にある世界遺産をもとにデザインされています。

著作権の関係により、  
ロゴを非公開として  
います。

(1) デザインのもとになった建築物を次の中から1つ選び、記号で答えなさい。

ア コロッセオ      イ パルテノン神殿      ウ ヴェルサイユ宮殿      エ モン・サン・ミッシェル

(2) この国際組織の役割の説明として正しいものを次の中から1つ選び、記号で答えなさい。




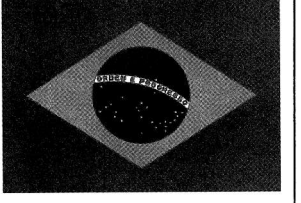
ア 発展途上国に対して、社会の発展や福祉の向上のために、先進国の資金や技術の提供を行うこと。

イ 教育、科学、文化の分野における協力と交流を通じて、国際平和と人類の福祉を促進すること。

ウ 戦争や貧困等で困難な状況にある子供たちの支援を行うなど、子どもの権利と健やかな成長を促進すること。

エ 国際的な金融協力や外国為替相場の安定を図ること。

問3 下線部③に関して、和也君は日本と関係の深いA～Dの国々の国旗について調べ、表にまとめました。

	A	B	C	D
国旗				
人口	2550万人	13億8000万人	3481万人	2億1256万人
面積	769.2万km <sup>2</sup>	328.7万km <sup>2</sup>	220.7万km <sup>2</sup>	851.6万km <sup>2</sup>
国旗の特徴	左上に、かつてこの国を植民地にしていた(あ)の国旗が、右半分に南十字星が描かれている。	勇気と献身を示すオレンジ、平和と真理を示す白、忠誠と礼節を示す緑の色が用いられている。	中央には、この国のほとんどの人びとが信仰している宗教の聖典(い)の一節が書かれている。	中央にある天球に「秩序と進歩」という言葉が書かれている。

(『世界国勢図会 2020/2021』より作成)

(1) (あ)(い)にあてはまる言葉を答えなさい。

(2) C、Dの国旗には、その国の公用語で言葉が記されています。C、Dの公用語を次の中から1つずつ選び、記号で答えなさい。

ア ロシア語      イ フランス語      ウ ポルトガル語      エ スペイン語      オ アラビア語

(3) 次の表は、A～Dの国々から日本への輸出品目上位5位と、それらが輸出額全体に占める割合を示しています。A、Bにあてはまるものをそれぞれ選び、記号で答えなさい。

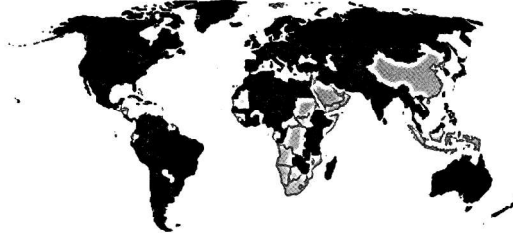
	ア	イ	ウ	エ
1位	有機化合物 (13.4%)	原油 (94.2%)	液化天然ガス (35.4%)	鉄鉱石 (38.4%)
2位	機械類 (10.4%)	石油製品 (2.1%)	石炭 (30.0%)	とうもろこし (12.4%)
3位	石油製品 (9.9%)	有機化合物 (1.1%)	鉄鉱石 (12.4%)	肉類 (11.4%)
4位	魚介類 (8.3%)	アルミニウム (0.9%)	肉類 (4.5%)	コーヒー (5.7%)
5位	ダイヤモンド (6.4%)	プラスチック (0.5%)	銅鉱 (3.5%)	有機化合物 (4.7%)
輸出総額	5855億円	3兆158億200万円	4兆9575億9500万円	8723億3500万円

(『日本国勢図会 2020/2021』より作成)

問4 下線部④に関して、和也君は、1956年に開催されたメルボルン大会と1964年に開催された東京大会の参加国・地域を調べ、現在の世界地図に黒く着色しました。下の地図を参考に、東京大会で参加国・地域の数が増えた主な理由を、解答欄に合うように答えなさい。

1956年 メルボルン大会

1964年 東京大会

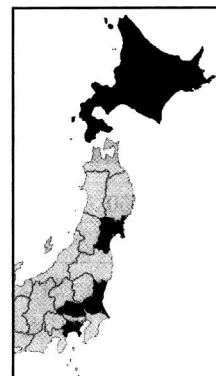


(メルボルン大会・東京大会の「The Official Report」より作成)

問5 下線部⑤に関して、海外からの訪問者にも分かりやすいように、空港やショッピングセンターなどでもピクトグラムが導入されています。右のピクトグラムは、主に何をするための施設を示していますか。解答欄に合うように答えなさい。



問6 下線部⑥に関して、サッカーの試合は、東京都だけでなく右の地図で黒く着色された5つの都道府県でも行われました。下の表は、それらの都道府県の産業に関する統計を示しています。AとEにあてはまる都道府県名を漢字で答えなさい。



	産業別有業者割合 [%]			主な製造品出荷額の割合 [%]			
	1次	2次	3次	1位	2位	3位	4位
A	3.9	23.6	72.5	食料品 (14.1)	石油・石炭製品 (12.4)	輸送用機械 (11.6)	電子部品 (11.2)
B	5.4	30.6	64.0	化学 (12.8)	食料品 (11.2)	生産用機械 (10.1)	輸送用機械 (8.6)
C	0.8	21.1	78.1	輸送用機械 (22.4)	石油・石炭製品 (12.6)	化学 (10.8)	食料品 (8.8)
D	6.1	17.4	76.5	食料品 (34.8)	石油・石炭製品 (16.5)	鉄鋼 (6.5)	パルプ・紙 (6.2)
E	1.7	23.6	74.7	輸送用機械 (18.9)	食料品 (14.2)	化学 (12.1)	金属製品 (5.6)

(『データでみる県勢 2021』より作成)

〔2〕 次の各問に答えなさい。

問1 弥生時代以前の人々の暮らしについて述べた以下のア～エを、出現した順に並べかえて記号で答えなさい。

- ア 水や平地などを求めて争う中で、戦いの指導や気候予想などができる人物が指導者となりました。
- イ ナウマンゾウやマンモスなどの巨大な動物を、集団で捕獲して食料としていました。
- ウ 木の実を採集するだけでなく、コメを育てて安定的に食料を得る試みがなされました。
- エ シカやイノシシなどの小型動物を、弓矢などを用いて捕獲して食料としていました。

問2 古墳時代には、古墳の形を共有し、大きさに差をつけることで、大王と地方の豪族は関係を結んだと考えられています。これについて説明した次の文の空欄にあてはまる言葉をそれぞれ漢字で答えなさい。

「ワカタケル大王」と記された剣が出土した、埼玉県の( A )古墳は、大阪府の大仙古墳と同じ( B )の形式でつくられています。このことから( A )古墳に葬られた豪族が、大王と主従関係を結んでいたと考えられています。

問3 飛鳥時代に権勢をふるっていた蘇我氏を倒して大化の改新を成し遂げ、藤原氏の祖となった人物の氏名を漢字で答えなさい。

問4 鎌倉時代、御家人は「ご恩」として地頭に任命され、「奉公」として軍事的奉仕を求められました。御家人に「ご恩」を与えることができる人物を次の中からすべて選び、記号で答えなさい。

ア 源義経      イ 竹崎季長      ウ 源頼朝      エ 足利義満      オ 源実朝

問5 戦国時代、織田信長は「天下布武」の印章を用いて、ある人物が室町幕府の将軍になることを軍事的に支援しました。この人物の氏名を漢字で答えなさい。

〔3〕次の文章を読み、各問に答えなさい。

①明治維新という大きな変革は、江戸時代の社会の仕組みを壊しました。江戸時代の②村請制による連帯責任のように、相互に助けあうことを強いられていた人びとの結びつきはなくなります。できたばかりの③小さくて弱い政府は頼りになりません。頼りになるのは自分の努力だけです。(中略) がんばって成功した人は、自分の成功は自分のがんばりのおかげだと主張します。成功しなかった人は、ああがんばりが足りなかったのだなあと思ひ込むようになります。本当は、成功した人は運が良かっただけかもしれず、失敗した人は運が悪かっただけかもしれないとしても、です。私は、この本のなかで、こうした思考のパターンに人びとがはまりこんでゆくことを「通俗道德のわな」と呼びました。  
(松沢裕作『生きづらい明治社会』岩波ジュニア新書)

問1 下線部①に関して、明治維新の変革で廃止された「江戸時代の社会の仕組み」として誤っているものを次の中から1つ選び、記号で答えなさい。

ア 武士の子は武士になるというような固定化された身分制  
イ 徳川家が代々征夷大將軍を務めるという慣例  
ウ 全国の年貢はすべて幕府に納められるという税制度  
エ 百姓は村、町人は町、というような身分による居住地の制限

問2 下線部②に関して、個人ではなく村単位で納税の責任を負う村請制は、明治政府が行ったある政策の結果廃止され、個人が納税の責任を負うことになりました。その政策の名称を漢字で答えなさい。

問3 下線部③に関して、「小さくて弱い政府」である発足当初の明治政府は財源に乏しく、人々を救済するような政策を十分行うことができませんでした。その理由として最もふさわしいものを次の中から1つ選び、記号で答えなさい。

ア 不平等条約を結んでいた結果、日本の国内産業の多くが外国資本に押さえられてしまったから。  
イ 士族反乱や自由民権運動に直面し、人々に信頼されていなかった政府は、高い税をかける力がなかったから。  
ウ 徳川慶喜が將軍職を辞した後も、佐渡金山と石見銀山からの収入を独占し続けていたから。  
エ 開国後、貿易赤字が続き、明治政府が外国から借金を重ねていたから。

問4 日清戦争後、日本は軍備増強のために増税を進めました。議会で、議員たちは政府の増税案をのむ代わりに道路網や学校の建設などを政府に認めさせました。これは当時の選挙権保有者で、議員たちの支持母体である地方の富裕層の要望にこたえるためでした。日清戦争に勝利した1895年時点で、どのような人々が衆議院議員の選挙権を持っていましたか。解答欄に合うように答えなさい。

〔4〕次の文章を読み、各問に答えなさい。

世界では、①アフガニスタン、シリア、イエメンなど23カ国で戦争が続いています。国連（国際連合）のグテーレス事務総長は2020年3月23日、②新型コロナウイルスが世界的な広がりを見せる中で、全世界に停戦を呼びかけました。命を必死に守ろうとする動きがある中で、人の命を奪うことを考えるのはバカバカしく、とても虚しく思えます。

③中村先生も、アフガニスタンでらい菌（ハンセン病）やコレラの感染症の治療のために努力しました。この国では食べ物がまったくないわけではなく、食べ物が不足して栄養が足りないところに、不衛生な水を飲み、赤痢などの感染症に罹り、脱水症状になって死ぬケースが多いのです。中村先生は、感染症の患者に抗生物質を与えるよりも清潔な水を与えるほうが有効だと考え、井戸を掘っていきました。先生が掘った井戸の数は1600本にも上りました。（中略）

中村先生がアフガニスタンの人びとにきれいな水を与え、彼らの体を清潔にしようとしたことはよくわかります。皆さんも転んで腕や脚などをすりむいたら、まず傷口を水で洗い、清潔にしようとするでしょう。アフガニスタンではそのようなきれいな水が不足し、怪我や病気を悪化させているのです。

そのようなアフガニスタンの現実を知って、困ったものだと思う人は少なからずいることでしょう。また、医師の中には医療支援を考える人もいるかもしれませんが、④アフガニスタンの人びとを取り巻く環境を変えて彼らを救おうと実際に行動を起こすところが中村先生の並外れたところです。

2001年9月11日、アメリカのニューヨークやワシントンDCで同時多発テロ（9・11テロ）が起きました。アメリカがその報復として⑤アフガン戦争を始めた頃、NHK・Eテレの番組で中村先生と初めてお会いしました。番組の担当者からアフガニスタン情勢を語ってくださいと頼まれたのです。

中村先生がアフガニスタンで井戸を掘っていた頃のことです。屋外での活動が多いせいか、先生は日焼けして、農作業をしているおじさんという印象でしたが、話し方は自分の信念をもっておられるという印象で、実に堂々としていて圧倒されそうでした。

「人が死んでいるところに爆弾を落としてどうなるんですか」

⑥先生は、アフガニスタンで戦争を始めたアメリカに対して批判的でした。中村先生が一生懸命に人の命を救おうとしているアフガニスタンに対してアメリカは戦争をし、さらに人びとの命を奪おうとしていたのです。中村先生とアメリカ軍とはまったく逆の行動をしていたわけです。

先生は、「私の福岡の親族の中には太平洋戦争中、アメリカの空襲で死んだ者もいる」とも語っていました。幼い時から周囲の人たちの戦争体験を聞かされていたのでしょう。戦争を嫌い、憎む気持ちがひじょうに強い人だなど思いました。人の命を大切にしたいという思いから医師の道を選んだことは言うまでもありません。

（宮田律『武器ではなく命の水をおくりたい 中村哲医師の生き方』平凡社）

問1 下線部①に関して、戦争は多くの難民を生み出し続けています。

- (1) 難民の諸権利を守り、国際的な保護・支援を行うために設立された組織で、その活動の重要性が認められてノーベル平和賞を2度受賞した国際組織の名称を、解答欄に合うように漢字で答えなさい。
- (2) 世界の国々は難民条約を結んで難民問題の解決に向けて取り組んでおり、日本も参加しています。日本は他にも多くの条約を結び、国際的な活動に参加していますが、日本が結んでいない条約を次の中から1つ選び、記号で答えなさい。

ア 子どもの権利条約      イ 対人地雷全面禁止条約      ウ 核兵器禁止条約      エ ラムサール条約

問2 下線部②に関して、ワクチンの供給や発展途上国への援助について提言するなど、世界の人びとの健康問題を専門的に扱っている国連の専門機関の名称を漢字6字で答えなさい。

問3 下線部③に関して、中村さんの活動を讃えて、右の切手がアフガニスタンで発行されました。日本国内において切手の発行などの郵政事業を管轄している省庁を次のAの中から、その省庁が主に担当している他の事業をBの中からそれぞれ1つずつ選び、記号で答えなさい。

- A ア 経済産業省      イ 総務省      ウ 文部科学省      エ 財務省
- B オ 食品や薬の安全の確認      カ 河川の管理や気象の観測業務  
キ 選挙や情報通信の管理      ク 企業などの公正な取引の監督

著作権の関係により、  
写真を非公開として  
います。

問4 下線部④に関して、中村さんは「ペンシャワール会」という非政府組織を設立して活動していました。非政府組織ではないものを次のAの中から、それと最も関係が深いものをBの中からそれぞれ1つずつ選び、記号で答えなさい。

- A ア 国際オリンピック委員会      イ 国境なき医師団      ウ 国際赤十字社      エ 青年海外協力隊
- B オ PKO      カ ODA      キ JOC      ク IAEA

問5 下線部⑤に関して、アメリカが戦争を起こした理由の1つとして、9・11テロの指導者を当時のアフガニスタン政府が保護していたことが挙げられます。この戦争(2001~2021年)への日本の関わり方について述べた文として正しいものを次の中から1つ選び、記号で答えなさい。

- A 憲法で平和主義を掲げる国として戦争に一貫して反対し、関わりをもちませんでした。
- イ 他国で起こった戦争には自衛隊を派遣できないため、アメリカなどの国々に資金援助のみを行いました。
- ウ 戦争には批判的だったが、戦争終結の際、自衛隊の護衛艦を派遣し、文民や協力者を救助しました。
- エ 国会で自衛隊を派遣できる法律を制定し、アメリカ軍などの後方支援を行いました。

問6 下線部⑥に関して、医師でもある中村さんは一貫して戦争に反対していました。日本国憲法も第9条などで平和主義を掲げています。第9条の一部を示している次の文の空欄にあてはまる言葉をそれぞれ漢字で答えなさい。

「…陸海空軍その他の( A )は、これを保持しない。国の( B )は、これを認めない。」

[ 以下 余 白 ]

2022年度 第2回	社 会	受験番号	座席番号	氏 名	

[ 1 ]

問1	日	時	問2(1)	(2)	問3(1)あ	
問3(1)い			(2)C	D	(3)A	B
問4 主に	大陸の国々が、			諸国から		したため
問5 主に	教徒が、聖地である			の方角に向かって		するため
問6 A	E					小計

[ 2 ]

問1	→	→	→	問2 A	古墳	B
問3	問4			問5		小計

[ 3 ]

問1	問2	問3	
問4 直接国税	円以上を納める		歳以上の

小計

[ 4 ]

問1 (1)	国連					事務所	(2)
問2					問3 A	B	
問4 A	B	問5					小計
問6 A		B					

合計