

2020年度第1回入学試験問題

社 会

「始め」の合図があるまでは問題を開いてはいけません。

注 意

1. 「始め」という合図で始め、「やめ」という合図で、すぐに鉛筆をおきなさい。
2. 問題は2ページから7ページまでです。
3. 解答用紙は問題冊子にはさまれています。
4. 初めに、解答用紙に受験番号、氏名を記入しなさい。
5. 答はすべて解答用紙に記入しなさい。
6. 質問や用があるときは静かに手をあげなさい。

著作権の関係により、設問3の問2(1)の文章を非公開とします。

〔1〕次の文章を読んで、各問に答えなさい。

桑田くんは、夏休みに大好きな高校野球を観戦しに甲子園へ行きました。

高校野球観戦後、A～Fの6つの高校がある都府県（以下県と略します）どうして、何か共通点はないかと調べてみました。すると、それぞれ次のような共通点があることに気づきました。

第一試合のA高校は四国三大祭り、B高校は東北三大祭りとして知られている県の代表同士の、「夏祭り」対決。
第二試合のC高校は日本（ ）、D高校は西洋（ ）の収穫量が全国第1位の県の代表同士の、「果実」対決。
第三試合のE高校は印刷業、F高校は半導体製造装置製造業が全国第1位の県の代表同士の、「製造業」対決。

次に、桑田くんはA～F高校がある各都市について調べて、以下のようにまとめました。

A高校のある都市

①向かい合う島との間にある海峡では、海の満ち干きによって起こる特徴的な現象がみられる。この現象は両岸から見る事ができる。

B高校のある都市

1989年に全国で11番目に②政令指定都市となった。杜の都と呼ばれ、東北地方で最大の人口である。

C高校のある都市

ラムサール条約に認定された谷津干潟がある。③世界有数の大都市に近く、ねぎの栽培など近郊農業が行われている。

D高校のある都市

④冬に季節風の影響を受け、10月～1月の降水量が多い。全国有数の稲作地帯に位置している。

E高校のある都市

世界有数の大都市で⑤出版・印刷業の工場が多い。かつては小松菜の収穫量が全国第1位だった。

F高校のある都市

2012年に全国で20番目に政令指定都市となった。⑥この都市のある県では、トマトなど全国第1位の収穫量を誇る野菜が栽培されている。

さらに、桑田くんは、A～F高校のある都市や県に他に共通点はないか調べてみました。

すると、⑦A～F高校のある都市はすべて平野部に位置していることがわかりました。またB高校とD高校、C高校とE高校はそれぞれ同じ地方であることに気づきました。さらにはC高校やD高校だけでなく⑧A高校の県も、ある特産果実の収穫量が全国第1位であることがわかりました。

問1 文中の（ ）にあてはまる共通の果実名を答えなさい。

問2 次の各問に答えなさい。

(1) 下線部①について、向かい合う島を示したものとして正しいものを次の中から選び、記号で答え、島名を答えなさい。



ア



イ



ウ



エ

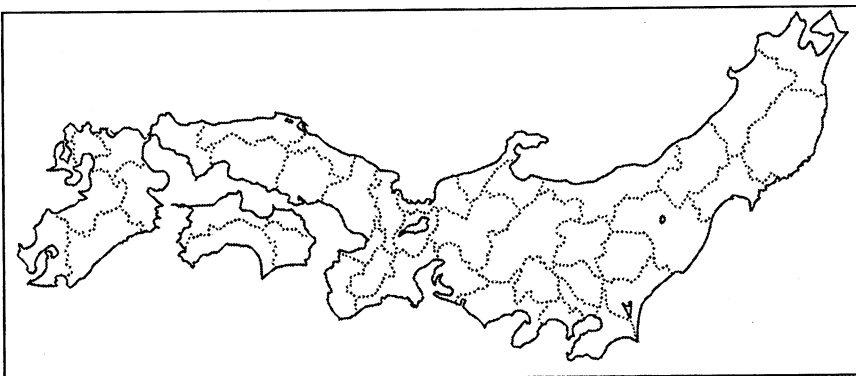
- (2) 下線部②について、この都市名を漢字で答えなさい。
- (3) 下線部③について、大都市の近くで野菜を栽培する主な理由を2つ、解答欄にあうようにそれぞれ答えなさい。
- (4) 下線部④について、この都市に吹く冬の季節風の風向きを8方位で答えなさい。
- (5) 下線部⑤について、出版・印刷業の工場が多い理由としてあてはまらないものを1つ選び、記号で答えなさい。
- ア 情報や流行の発信地だから イ 労働力が豊富で人件費が安いから
ウ 学術や文化の中心地だから エ 道路網が整備され交通の便が良いから
- (6) 下線部⑥について、この県がトマト以外で全国第1位の収穫量を誇る野菜は何か答えなさい。
- (7) 下線部⑦について、D高校とE高校が位置する平野名をそれぞれ漢字で答えなさい。
- (8) 下線部⑧について、この特産果実を1つ選び、記号で答えなさい。
- ア びわ イ レモン ウ おうとう エ すだち

問3 次の表はA高校、C高校、F高校がある県の製造品出荷額等割合の上位5位を示したものです。C高校とF高校がある県のをそれぞれ選び、記号で答えなさい。

製造品出荷額等割合(2016年)					(単位: %)
ア	化学 31.3	電子部品 18.3	食料品 8.4	パルプ・紙 7.0	電気機械 6.2
イ	石油・石炭製品 19.5	化学 19.1	食料品 13.3	鉄鋼 13.0	金属製品 5.3
ウ	電子部品 15.7	輸送用機械 14.0	生産用機械 13.8	食料品 13.3	金属製品 6.0


『データでみる県勢 2019』より作成

問4 A~F高校がある県をすべて塗りなさい。



〔 2 〕 次の文章を読んで、各問に答えなさい。

2018年10月、奈良の大寺院で「中金堂(右の写真)」という建物が再建されて話題となりました。金堂とは本尊となる仏像を安置する建物です。この寺院には3棟の金堂があり、中金堂は創建当初から存在する金堂です。①1717年の大火で、中金堂をふくむ多くの建物が焼失しました。ようやく1819年になって、中金堂の再建がはかられましたが、資金が少なかったため大幅に規模を縮小し、質も落とした仮のお堂という形で建てられました。それも老朽化したため、今回の再建となりました。本来の規模の「中金堂」としては、ほぼ300年ぶりのものとなります。



この寺院は、710年に朝廷の有力者であった(②)氏の寺院として③現在の地に創建されました。その後、734年に④天皇とその皇后により、おもな建物が完成されました。この天皇の母も皇后も、(②)氏の出身だったからです。都が奈良から離れて以後、(②)氏が朝廷の重要な地位を独占するようになると、この寺院も⑤豊かな財力を持ち、さらに(②)氏の氏神である春日神社と一体のものとみなされ、大きな権勢をもつようになりました。11世紀後半になると、この寺院の武装した僧侶が自分たちの要求を通すため、都に強訴にのぼり、時には⑥政権を握る勢力と対立することもありました。12世紀以降もこの寺院が財力と武力を兼ね備えた状況は続き、鎌倉幕府や⑦室町幕府の時代においては、事実上の大和国の守護をつとめていました。

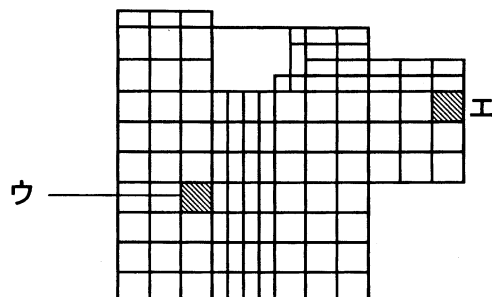
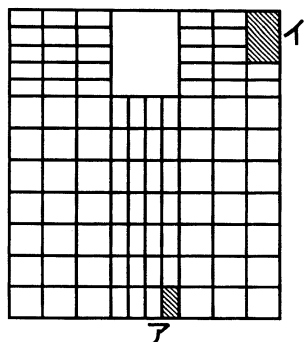
この寺院は⑧長い歴史の中で、何度も危機を迎えました。まず、くりかえし火災にみまわれ、多くの建物が被災してきたことです。そのたびに建物は再建されてきました。中金堂だけでも、7度も被災しています。しかし最大の危機は、1868年に明治政府が出した神仏分離令をきっかけに、各地で寺院の建物や仏像・仏具などを破壊する⑨廃仏毀釈が起こったことです。この寺院でも住職が不在となり、仏像などの文化財が海外へ流出し、破壊された建物もありました。⑩1881年に明治政府により再興が許可されて、ようやく寺院として復活しました。現在、⑪この寺院は世界遺産「古都奈良の文化財」の重要な担い手です。今後も建物の再建、改修が続けられていく予定です。かつての壮麗な姿を、将来見るようになるかもしれません。

問1 下線部①について、このころ幕府では財政を立て直すために^{けんやく} 倭約令をはじめとする政治改革が進められていました。この時期の改革の内容にふくまれるものを次の中から1つ選び、記号で答えなさい。

- ア 物価引き下げのため、株仲間を解散した。
- イ 大名から石高1万石につき100石を、幕府に^{けんじょう} 献上させる上げ米をおこなった。
- ウ 農村人口を確保するため、都市に流入した農村出身者の^{しやうれい} 帰村を奨励した。
- エ 最上徳内らを蝦夷地に派遣し、新田開発や鉱山開発などの可能性を調査させた。

問2 空欄②について、この空欄に入る姓を漢字で答えなさい。

問3 下線部③について、下の図は平城京と平安京のいずれかを表したものです。図の中からこの寺院の位置を選び、記号で答えなさい。



問 4 下線部④について、この人物は各国に国分寺と国分尼寺を建立しました。次の各問に答えなさい。

(1) 国分寺の跡とされている場所が1カ所もない県を、次の中から1つ選び、記号で答えなさい。

ア 宮城県 イ 福島県 ウ 栃木県 エ 群馬県

(2) この人物の時代の出来事として正しいものを、次の中から1つ選び、記号で答えなさい。

- ア 田地の開墾をうながすため、墾田永年私財法を制定した。
イ 貴族の力をおさえ天皇の力を強化するため、長岡京に都を遷そうとした。
ウ 土地や人民をすべて国家の所有とする政策方針を、はじめて発表した。
エ 朝廷の役人の位を12段階に分けて、家柄ではなく、能力によって役人をとりたてようとした。

問 5 下線部⑤について、この寺院は大和国をはじめとして各地に多くの私有地を所有していました。この私有地は歴史的には何とよばれていますか。漢字2字で答えなさい。

問 6 下線部⑥について、1180年に平氏が奈良に兵を進め、この寺院や隣接する東大寺に火を放ちました。翌年には早くも東大寺再建の動きが始まり、大仏殿や南大門が13世紀初めごろには建立されました。この再建に関わった人物を次の中から1人選び、記号で答えなさい。

ア 行基 イ 運慶 ウ 雪舟 エ 道元

問 7 下線部⑦について、この幕府で将軍を補佐して政治をまとめる職に就くことができたのは、3家に限られていました。その職名を次のア～エから選び、3家にふくまれる一族を次のあ～えから選び、それぞれ記号で答えなさい。

【職名】 ア 管領 イ 公方 ウ 執権 エ 別当
【一族】 あ 赤松氏 い 一色氏 う 細川氏 え 山名氏

問 8 下線部⑧について、次の各問に答えなさい。

(1) 1046年に多くの建物が焼失した際の再建は、とても迅速に行われました。それは、当時の朝廷で政治権力を握っていた人物が再建を積極的に進めたからです。このようなことを可能にした、当時の特色のある政治を何と言いますか。漢字で答えなさい。

(2) 1595年に、この寺の領地として2万1000石が定められました。これは誰の、どのような政策によって定められたものですか。次の文の空欄 a には人物名を、b には政策名を解答欄にしたがって答えなさい。

(a) が全国におこなった (b) によって定められた。

問 9 下線部⑨について、それまで多くの寺院は寺請制度のもとで、江戸幕府の統治と関わりをもってきました。17世紀に幕府は寺請制度を設置することで、どのような人々を抑えようとしたか。

問 10 下線部⑩について、この年には、開拓使官有物 私下げ事件が起こったことをきっかけに、明治政府内で大きな変化が起こりました。この年の出来事を次の中から1つ選び、記号で答えなさい。

- ア この年に政府を去った板垣退助は、イギリス風の議会政治を主張する立憲改進黨を結成した。
イ 伊藤博文を中心とする政府は、国会を10年後に開設することを約束した。
ウ 徴兵令が出され、満20才以上の男子に3年間軍隊に入ることが義務づけられた。
エ 地租改正条例を定めて、租税は地価に税率2.5%をかけた額を金納することにした。

問 11 下線部⑪について、この寺院の名称を漢字で答えなさい。

〔 3 〕 次の文章を読んで、各問に答えなさい。

日本国憲法の原則の1つである①国民主権を実現するためにとられている政治制度が、議会制民主主義（代議制）です。では、議会さえあれば民主主義が実現されているといえるのでしょうか。議会制民主主義の条件について考えてみました。

第一は、議会が十分な権限を持っていることです。日本国憲法では、国会を「国の唯一の立法機関」とともに、「（ ）機関」と定め、国会を中心として国政が行われるべきことを明らかにしています。まず国会は、内閣の長である内閣総理大臣を指名します。さらに国会は②証人を呼んだり、政府に資料を提出させたりするなどの手段で、行政権を監督する役割を果たしています。

第二に、議会が真に国民の代表機関となるためには、国民の考えを正しく反映させることのできる選挙制度が必要です。例えば日本で初めて帝国議会の選挙が行われたとき、有権者の人口に占める割合は、約1%でした。このとき議会は、1%の人々の代表でしかなかったのです。それと比べ、現在では普通選挙制度によって③有権者の割合は、はるかに高くなっています。

第三に、民主主義の実現のためには、④国会での審議が十分に尽くされ、国民の理解が深まった上で決定がなされる必要があります。

ところで国会は、衆議院と参議院とからなる二院制をとっています。国会がこのような二院制をとるのは、国民の間の様々な意見を反映させ、審議を慎重に行うためとされています。そこで、この二つの院は定数だけでなく、⑤選挙制度にも違いが設けられています。

議会制民主主義は、一度つくられたら完成というものではありません。その内容や運営を、常に国民が注意深く見守っていく必要のある制度なのです。

問1 文中の空欄にあてはまることばを、解答欄にしたがって答えなさい。

問2 下線部①について、次の各問に答えなさい。

(1) 次の文中の空欄にあてはまることばを答えなさい。

著作権の関係により、文章を非公開とします。

※レオ・ヒューバーマン著 小林良正・雪山慶正訳 『アメリカ人民の歴史（上）』岩波新書から
(2) 日本国憲法の中で、国民が主権をもつことをはっきり書いてあるのは前文と第何条でしょうか。正しいものを次の中から1つ選び、記号で答えなさい。

- ア 天皇の地位について定めている第1条
- イ 戦争放棄について定めている第9条
- ウ 国会の地位について定めている第41条
- エ 行政権について定めている第65条

問3 下線部②について、次の文中の空欄にあてはまることばを、解答欄にしたがって答えなさい。

これらは国会のもつ(a)権に基づくものですが、それは国政の実情を明らかにし、主権者である国民の(b)
権利にこたえるという意味ももっています。

問4 下線部③について、有権者の割合が高くなっても、投票に行かない人が多くなると国民の考えは正確に
議会に反映されません。昨年7月に行われた参議院議員通常選挙の投票率に最も近いものを次の中から1
つ選び、記号で答えなさい。

ア 60% イ 50% ウ 40% エ 30%

問5 下線部④に関連して、2018年12月に成立し、翌年4月から施行されたある法律は、国会での審議時間
が短かったことが話題になりました。その法律(法案)を次の中から1つ選び、記号で答えなさい。

- ア 集団的自衛権の行使容認を含む、安全保障関連法案
- イ 高齢者に十分な生活費を保障するための、年金改革法案
- ウ 外国人労働者の受け入れを拡大する、出入国管理及び難民認定法改正案
- エ 消費税率を8%から10%に引き上げるための、税と社会保障の一体改革関連法案

問6 下線部⑤について、衆議院議員選挙と参議院議員選挙のどちらにも比例代表制がとりいれられています。
そのことについて述べた文として、誤っているものを次の中から1つ選び、記号で答えなさい。

- ア 衆議院も参議院も、議員の半数は民意を比較的正確に反映するといわれる比例代表制で選ばれています。
- イ 衆議院の比例代表制では全国を11のブロックに分けていますが、参議院では全国1区で選びます。
- ウ 衆議院の比例代表制の候補者には、小選挙区で立候補している人も加えることができますが、参議院で
は都道府県の選挙区で立候補している人は、比例代表制の候補者になることはできません。
- エ 衆議院の比例代表制では、あらかじめ届出された政党・政治団体名を書いて投票しますが、参議院の比
例代表制では、政党・政治団体名だけでなく候補者の個人名を書いて投票することもできます。

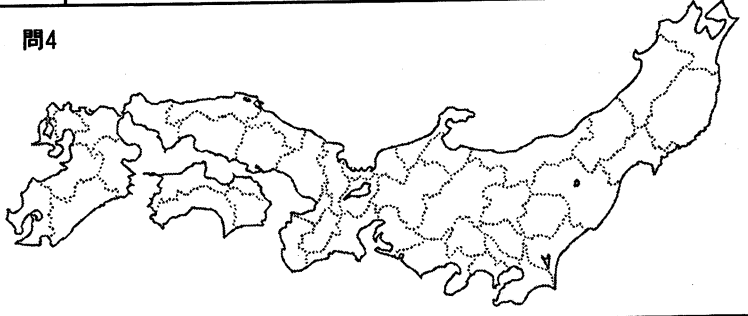
問7 昨年7月の参議院議員通常選挙で、難病や障がいのため大型車いすが必要な2人の候補者が当選しまし
た。このことについて述べた文として、正しいものを次の中から1つ選び、記号で答えなさい。

- ア 2人が所属する政党・政治団体は、障がい者の社会参加の問題だけをとりあげ、選挙にのぞみました。
- イ 2人は、優先的に当選する候補者をあらかじめ決めておく、比例代表制の「特定枠」の制度によって当
選しました。
- ウ 2人は特別な配慮によって、初めての国会審議からテレビ会議方式で参加しました。
- エ 2人の当選を受けて、障がい者の社会参加のために合理的配慮を求める、障がい者差別解消法案が国会
に提出されました。

[以 下 余 白]

2020年度 第1回	社会	受験番号				氏名	
---------------	----	------	--	--	--	----	--

〔1〕

問1	問2 (1)		島 (2)
問2 (3)		ため	ため
(4)	(5)	(6)	問4 
(7) D	平野	E 平野	
(8)	問3 C	F	

〔2〕

問1	問2	問3			
問4 (1)	(2)	問5	問6	問7 職名	一族
問8 (1)		問8 (2) a			b
問9	問10	問11			

小計	
----	--

小計	
----	--

〔3〕

問1		の	機関
問2 (1) 「 ()、 () による、 () の政治」			
問2 (2)	問3 a	権	b 権利
問4	問5	問6	問7

小計	
----	--

合計	
----	--