

2018年度第1回入学試験問題

社 会

「始め」の合図があるまでは問題を開いてはいけません。

注 意

1. 「始め」という合図で始め、「やめ」という合図で、すぐに鉛筆をおきなさい。
2. 問題は2ページから7ページまでです。
3. 解答用紙は問題冊子にはさまれています。
4. 初めに、解答用紙に受験番号、氏名を記入しなさい。
5. 答はすべて解答用紙に記入しなさい。
6. 質問や用があるときは静かに手をあげなさい。

〔1〕次の文章を読み、各問に答えなさい。

新聞部の太郎さんと次郎さんは、日本三大うどん巡りという企画の取材に①水沢うどんと讃岐うどんの産地である群馬県、香川県へ出かけました。

太郎さんは、水沢うどんについて調べるため、新幹線で群馬県へ向かいました。群馬県に入ると②この地域特有の局地風から家屋を守るための屋敷林が見えてきました。しばらくすると、住宅街や高層ビルが現れ、高崎駅に到着しました。高崎市は、③群馬県の人口最大の都市です。太郎さんは、群馬名物「焼きまんじゅう」や「おつきりこみ」の看板を見かけました。観光案内所で尋ねてみると、④小麦の生産が盛んな群馬県では、うどんだけではなく小麦を使った郷土料理がたくさんあることが分かりました。年間を通して晴れの日が多く、水はけのよい土壌に恵まれているため、小麦の栽培に適しているようです。翌朝、取材を終えた太郎さんは大泉町のスーパーに立ち寄りしました。スーパーには⑤孀恋キャベツが売られていました。また、日本語だけではなく⑥ポルトガル語の表記が多く見られました。

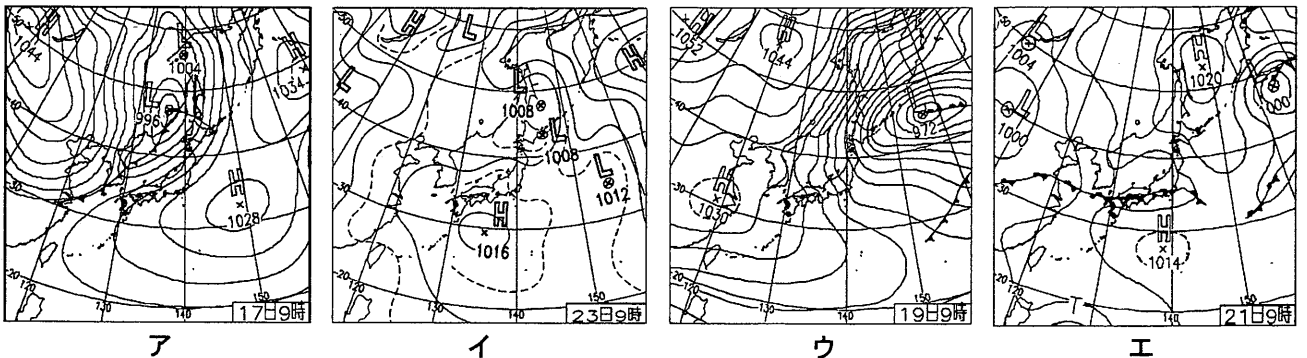
その頃、次郎さんは讃岐うどんについて調べるため、香川県の讃岐平野に向かっていました。まず、岡山県と香川県を結ぶ（X）橋を渡ると、坂出港が見えてきました。坂出港は、かつて周辺に塩田が広がり、塩の積み出し港として栄えた港です。香川県では、坂出の塩、讃岐平野の小麦、（Y）島の醤油など、古くからうどんの材料が生産されていたようです。琴平駅に到着後、金刀比羅宮の参道を登ると、眼下に讃岐平野が広がり、⑦田畑の中にたくさんため池が見られました。その後、次郎さんは、瀬戸内海に浮かぶ（Y）島に向かいました。（Y）島は、小説「二十四の瞳」の舞台となった島で、この地域特有の気候を生かしたオリーブの栽培が盛んです。次郎さんは、島の灯台で⑧美しい夕日を眺めながら、次回の企画について思いを巡らせました。

問1 下線部①以外の日本三大うどんとして、稲庭うどんが挙げられます。稲庭うどんの産地がある県で伝統的に開催されている祭りを1つ選び、記号で答えなさい。

- ア 野馬追祭      イ ねぶた祭      ウ 花笠祭      エ 竿燈祭

問2 下線部②について、次の各問に答えなさい。

- (1) この風の名称を答えなさい。  
 (2) この風が吹く日の典型的な気圧配置を1つ選び、記号で答えなさい。



※図中のHは高気圧、Lは低気圧を示す。 気象庁 H.Pより

(3) この地域では、家屋に対してどちらの方位に屋敷林を配置すると良いでしょうか。適切なものを1つ選び、記号で答えなさい。

- ア 北と西      イ 南と西      ウ 南と東      エ 北と東

問3 下線部③について、次の4県の中には、群馬県と同様に県庁所在地と人口最大都市が一致しない県が1つあります。その県の人口最大の都市名を答えなさい。

- 青森県      神奈川県      長野県      山口県

問4 下線部④について、日本は小麦の約9割を海外から輸入しています。次のア～エは、かき揚げうどんの原料である、小麦、エビ、タマネギ、大豆のいずれかの輸入先上位3カ国とその割合を示したものです。小麦を示すものを選び、記号で答えなさい。

ア	インド	(20.3%)	ベトナム	(18.1%)	インドネシア	(15.0%)
イ	アメリカ合衆国	(46.3%)	カナダ	(33.0%)	オーストラリア	(15.5%)
ウ	アメリカ合衆国	(71.5%)	ブラジル	(16.7%)	カナダ	(10.9%)
エ	中国	(88.0%)	ニュージーランド	(6.0%)	アメリカ合衆国	(3.5%)

財務省「貿易統計」(2016年)より作成

問5 下線部⑤について、冷涼な気候を生かして、他の産地と出荷時期を遅らせる栽培方法を何と言いますか。解答欄に合うように答えなさい。

問6 下線部⑥について、群馬県の外国人労働者のうち、もっとも多いのはどこの国の出身者ですか。国名を答えなさい。

問7 下線部⑦について、次の各問に答えなさい。

(1) 讃岐平野のため池が多く見られるのはなぜですか。次の文の空欄に適切な言葉を入れなさい。

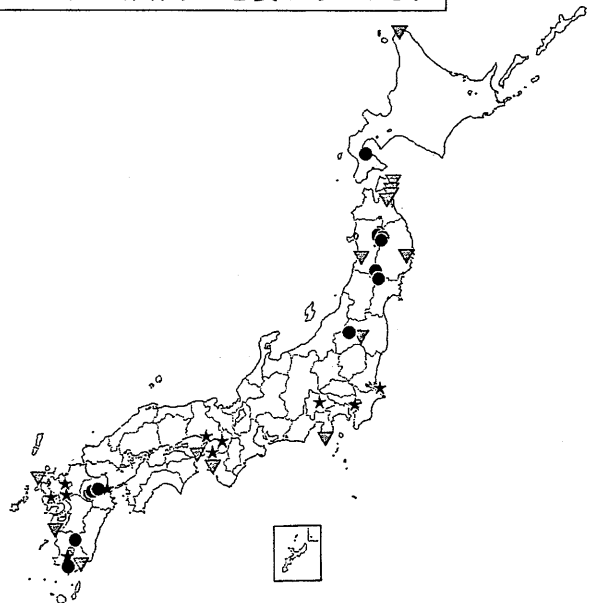
大きな河川がなく、また、( A ) ので、( B ) を確保する必要があるから。

(2) 次郎くんは、ため池の中に大型のソーラーパネルが設置されているのを見かけました。近年、自然エネルギーの開発が注目されています。右の図は、主な太陽光発電所、風力発電所、地熱発電所の分布を示した図です。太陽光発電所を示しているものを次のア～ウから選び、記号で答えなさい。

ア ▽    イ ★    ウ ●

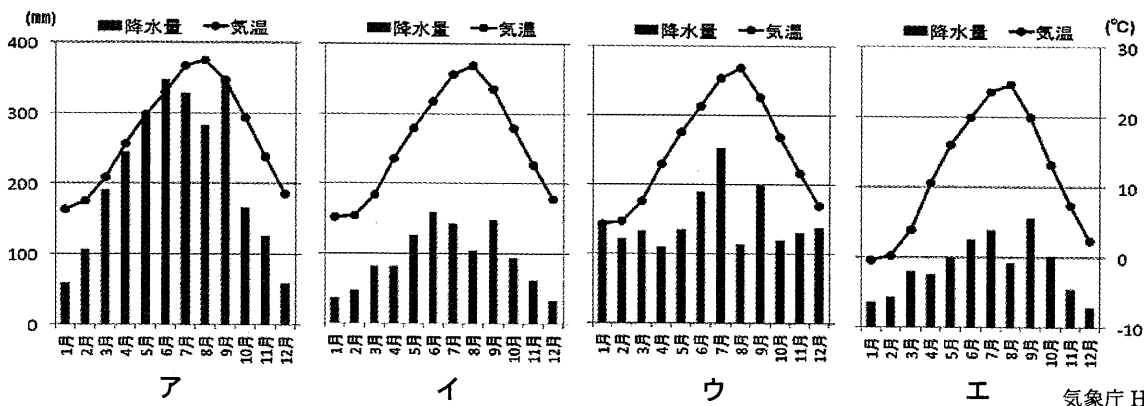
※太陽光発電所は発電量1万kW以上、地熱発電所は3千kW以上、  
風力発電所は3万kW以上で自家発電を除いたものを表示。

帝国書院『中学校社会科地図』より



問8 文章中の( X )橋と( Y )島の名称をそれぞれ漢字で答えなさい。

問9 次の図は、( Y )島、松江、高知、松本のいずれかの雨温図です。( Y )島のものを1つ選び、記号で答えなさい。



気象庁 H.P.より作成

問10 下線部⑧について、( Y )島(東経134.2度)と東京(東経139.8度)では、日の入り時刻は何分何秒違いますか。経度に基づいて計算して答えなさい。ただし、緯度や地形などは考えないものとします。

〔 2 〕日本の歴史上の戦いや政変に関する年表を見て、各問に答えなさい。

3世紀ごろ 〔 あ 〕

527 ①筑紫 国造 磐井の乱

645 〔 い 〕

663 〔 う 〕

672 〔 え 〕

935～941 ②承平・天慶の乱

1203 2代将軍の外戚であった比企氏が、〔 お 〕氏により滅ぼされた。

1213 侍所の長官であった和田義盛が、〔 お 〕氏により滅ぼされた。

1221 ③承久の乱

1247 有力御家人であった三浦氏が、〔 お 〕氏により滅ぼされた。

1285 有力御家人であった安達氏が、〔 お 〕氏に仕えた平頼綱により滅ぼされた。

1457 アイヌの大首長〔 か 〕が、和人の進出に対して戦って敗れた。

1467～1477 ④応仁の乱

1488 加賀の〔 き 〕の信徒が、守護を破り、以後約100年間にわたって自治を行った。

1590 豊臣秀吉による天下統一……A

1592～1598 文禄・慶長の役……B

1600 ⑤関ヶ原の戦い

1615 豊臣氏滅亡……C

1637～1638 島原の乱……D

1863 鹿児島湾でイギリス艦隊と薩摩藩が交戦した。

1864 ⑥下関砲撃事件

1877 ⑦西南戦争

問1 年表の空欄〔 あ 〕～〔 え 〕には、次の出来事のいずれかが入ります。空欄〔 え 〕にあてはまるものを1つ選び、記号で答えなさい。

- ア 中大兄皇子は中臣鎌足らの協力を得て、朝廷で勢力を持っていた豪族を滅ぼした。
- イ 大友皇子と大海人皇子が皇位をめぐり戦った。
- ウ 朝鮮半島沿岸における戦いで大和朝廷の軍が大敗した。
- エ 男の王が治めている間は争いが絶えなかったため、女王卑弥呼を立てた。

問2 下線部①について、次の各問に答えなさい。

(1) この反乱を伝えている『日本書紀』編纂の中心となった人物を1人選び、記号で答えなさい。

- ア 太安万侶
- イ 大伴家持
- ウ 舍人親王
- エ 柿本人麻呂

(2) このころ大和朝廷の勢力が拡大していく中で、こうした豪族の反乱や争いが続いていました。仏教の受け入れを進めて、反対する豪族を破り、6世紀後半から7世紀半ばにかけて大和朝廷で力をもった豪族は何氏ですか。漢字で答えなさい。

問3 下線部②について述べた次の文のうち、正しいものを1つ選び、記号で答えなさい。

- ア 平将門は、一族と争いを繰り返すうち、陸奥の国府である多賀城を攻め落とすとした。
- イ 平将門は、常陸などの国府を攻め落とすと、新皇と自称した。
- ウ 藤原純友は、海賊を率いて四国全土を支配したが、大宰府の軍によって退けられた。
- エ 藤原純友は、清原氏に協力した源義家により滅ぼされた。

問4 空欄〔お〕に入る語句を漢字で答えなさい。

問5 下線部③について述べた次の文のうち、誤っているものを1つ選び、記号で答えなさい。

- ア 3代将軍死去の混乱に乗じて、後鳥羽上皇が兵をあげたことにより始まった。
- イ 幕府初代将軍の妻の説得により、鎌倉方の御家人たちが結束した。
- ウ 敗北した側の莊園を没収し、新たに御家人を地頭に任命した。
- エ 乱を鎮定した後に、幕府は六波羅探題の権限を強めた。

問6 空欄〔か〕に入る人物名を答えなさい。

問7 下線部④の時、東軍を率いた細川勝元が建てた寺院に龍安寺があります。この禅宗の寺院は、右の写真に見られるような庭園で有名です。このような庭園の形式を何といいますか。



龍安寺 H.P.より

問8 空欄〔き〕に入るものを1つ選び、記号で答えなさい。

- ア 日蓮宗    イ 天台宗    ウ 浄土真宗    エ 臨済宗

問9 年表中のA～Dの出来事について説明した次の文のうち、正しいものを1つ選び、記号で答えなさい。

- ア Aは、豊臣秀吉が九州の島津氏を服属させたことで完成した。
- イ Bの時、中国の清が朝鮮半島へ救援の軍隊を送った。
- ウ Cは、2度にわたる徳川方の大坂城攻略の結果として起こった出来事である。
- エ Dをきっかけに、幕府はキリシタンを国外に追放することを決めた。

問10 下線部⑤について、「関ヶ原」が位置する県の領域内で過去に起こった出来事として正しいものを1つ選び、記号で答えなさい。

- ア 中世以来、陶器の生産が盛んで、生産地名は陶磁器の総称となった。1542年に徳川家康が生まれた。
- イ 織田信長が戦国大名の斎藤氏を滅ぼし、城下町に楽市楽座制をしいた。1882年に板垣退助が、遊説途中、暴漢に襲われけがをした。
- ウ 湖の西側の山地に最澄が天台宗の根本道場として寺院をつくった。湖の東側に石田三成が佐和山城を築いた。
- エ 一乗谷に戦国大名の朝倉氏が城下町をつくり、約100年間にわたり支配をした。江戸時代末期に藩主松平慶永（春嶽）が、幕府の政治改革にあたった。

問11 下線部⑥のきっかけとなったのは、どのような行動ですか。次の文の空欄に適切な語句を入れなさい。

( X ) 藩による ( Y ) への砲撃

問12 下線部⑦の前に、佐賀の乱や神風連の乱・萩の乱もありました。これらの出来事を起こした人々は、1872年に告諭され、翌年に実行された明治政府の政策に反発していました。彼らが反発したこの政策は何ですか。

問13 19世紀末から20世紀にかけて日本が経験した以下の戦争について、次の各問に答えなさい。

- ア 太平洋戦争                      イ 第一次世界大戦                      ウ 日清戦争
- エ 日中戦争                              オ 日露戦争

- (1) 日本がイギリスと同盟を結んでいる状況で戦ったものをすべて選び、年代順に記号で答えなさい。
- (2) イの後に、世界の平和を守るために設立された組織名を漢字で答えなさい。

〔 3 〕 次の文章を読み、各問に答えなさい。

日本国憲法が施行されてから昨年で 70 年がたちました。日本国憲法の 3 つの柱の 1 つに「基本的人権の尊重」がありますが、基本的人権とそれに関連した事柄について考えてみましょう。

「権利」とは、何かをすることを正式に認められること、ということができます。その中で基本的人権とは、人々はその生命や自由を大切にされ、幸福に生きるための権利のことです。

権利を得るためには見返り、すなわち何らかの義務を果たすことが必要だ、ということもできます。では、基本的人権を得るために果たすべき義務はあるのでしょうか。

日本国憲法には、「国民の義務」として、「子ども（ A ）義務」「勤労の義務」「①納税の義務」の 3 つが定められています。この 3 つは社会をつくりあげていくうえで欠かせないものです。

そうすると、これらの義務を果たせない人には基本的人権は与えられないのでしょうか。もっと言うと、社会に貢献できない人は基本的人権が認められない、ということになるのでしょうか。

②日本国憲法では、基本的人権は義務と引き換えに与えられるもの、という考えをとっていません。基本的人権はだれもが（ B ）にもつもの、という考えにもとづいているのです。

その上で憲法は、国民が③基本的人権を守り発展させ、お互いの人権を保障し合う社会をつくる努力をしていかなければならないと述べています。

また、すべての人が④人間らしく豊かに生活することができる制度を整えていくことが、政治の重要な役割であるとも述べています。

ところで、日本国憲法第 99 条には、「天皇又は摂政及び国務大臣、国会議員、裁判官その他の公務員は、この憲法を尊重し擁護（かばい守る）する義務を負う。」とあります。ここで、義務を負う人々として「国民」は入っていませんが、⑤それは憲法の目的や役割と深く関連しているのです。

問 1 （ A ）にあてはまる言葉を 10 字前後で答えなさい。

問 2 下線部①に関連した次の各問に答えなさい。

(1) 税金について述べた次の文のうち、誤っているものを 1 つ選び、記号で答えなさい。

ア 会社に勤めている人の所得にかかるのが所得税で、自営業の人の所得にかかるのが売上税です。

イ 国に納める間接税は消費税以外にも、酒税や揮発油税（ガソリン税）などがあります。

ウ 自分の選んだ地方自治体に寄付をすると、住民税や所得税が減額される「ふるさと納税制度」が話題をよんでいます。

エ 会社が得た所得（利益）にかかり、国に納めるのが法人税です。

(2) 現在、日本の政府は税金だけですべての支出をまかなうことはできず、借金をして補っています。2016 年度の国の予算の収入のうち、公債（借金）で集めたお金の割合は次のどの範囲に含まれますか。1 つ選び記号で答えなさい。

ア 15～24%      イ 25～34%      ウ 35～44%      エ 45～54%

問 3 下線部②に関連した次の各問に答えなさい。

(1) （ B ）にあてはまる言葉を 6 字で答えなさい。

(2) 日本国憲法前文で、「全世界の国民」がもつと宣言している権利があります。それは何ですか。1 つ選び記号で答えなさい。

ア 健康で文化的な最低限度の生活を営む権利

イ 思想・良心の自由や信教の自由に関する権利

ウ 奴隷的な拘束を受けず、自由に幸福追求をする権利

エ 恐怖と欠乏からまぬかれ平和のうちに生存する権利

問4 下線部③に関連して、憲法には定められていなくても時代の変化とともに認められるようになった権利もあります。次の文の中で、そのような権利の例とは言えないものを1つ選び、記号で答えなさい。

ア 有名な芸能人であっても、仕事以外の私生活をむやみにあばかれたりしない。

イ 個人の名前・住所・生年月日などの情報を勝手に知られたり、利用されたりしない。

ウ 障がいのある人でも安心して利用できるスポーツ施設の建設を市長に訴え、インターネットで署名を集めた。

エ 自宅のとなりに高いマンションが建つことになったが、十分な日当たりが確保されるよう、建設会社に申し入れた。

問5 下線部④の例として、安心して子どもを産み、育てることができるようにすることがあります。しかし、働く親が子どもを預ける施設が不足していることが問題になっています。親が申請してもこのような施設に入れない子どものことを何とよびますか。解答欄にあてはまる漢字2字を答えなさい。

問6 憲法第99条には、なぜ「国民」が入っていないのでしょうか。下線部⑤を参考にして、その理由として正しいものを、次の文の中から1つ選び、記号で答えなさい。

ア 第99条にあげられた人々は法律をつくったり、行政や裁判を行うなど法律の知識が求められるので、まずそれらの人々が憲法をよく知る必要があるから。

イ 憲法は国や権力者の力を制限して個人の人权を保障するためにあるので、権力を行使する人々に憲法を守らせる必要があるから。

ウ 国民が政府に従わなければ社会が混乱してしまうので、国民が憲法を守る義務より、政府に従う義務のほうが重要だと考えられているから。

エ 憲法はあらゆる法律のいちばん上にあるのだから、国民がこれを守る義務を負うのは当然だと考えられるから。

〔 以 下 余 白 〕

