

2018年度第2回入学試験問題

社 会

「始め」の合図があるまでは問題を開いてはいけません。

注 意

1. 「始め」という合図で始め、「やめ」という合図で、すぐに鉛筆をおきなさい。
2. 問題は2ページから7ページまでです。
3. 解答用紙は問題冊子にはさまれています。
4. 初めに、解答用紙に受験番号、座席番号、氏名を記入しなさい。
5. 答はすべて解答用紙に記入しなさい。
6. 質問や用があるときは静かに手をあげなさい。

著作権の関係により、設問4の挿入文を非公開とします。

〔 1 〕日本の自然災害について述べた次の文章を読み、各問に答えなさい。

日本は世界的にみて、台風や集中豪雨、火山噴火や地震など自然災害が多い国です。毎年のように全国各地で自然災害が起っています。これには日本列島の位置が関係していると考えられます。日本列島は、東に太平洋、西に（ 1 ）大陸が広がり、海洋と大陸の境にあります。①日本列島の位置する北緯 35 度付近は寒帯と亜熱帯の気団の境界が南下したり北上したりします。この気団の境界に沿って低気圧が〔A〕から〔B〕へ通過して雨を降らせず。また、太平洋の赤道を中心とした熱帯では、海流が主に〔B〕から〔A〕へ流れ、温かい海面上で台風が発生し、北上してきます。冬に（ 1 ）大陸から吹き出す（ 2 ）季節風は、日本海から多量の水分を取り込み、日本列島の日本海側に多量の降雪をもたらします。

日本列島の周辺には、②（ 1 ）プレートと北アメリカプレートの 2 つの大陸プレートと、太平洋プレートとフィリピン海プレートの 2 つの海洋プレートがあります。この 4 つのプレートのせめぎ合うところに日本列島があります。そのため、高く連なる山脈や細長い弧状の日本列島ができました。そして、プレートのせめぎ合うところでは火山活動や地震活動が活発になるのです。このような地理的条件により、毎年のように全国各地で自然災害が起こるのです。

2016 年は全国的に異常気象や自然災害が多い 1 年でした。1 月には奄美大島で 115 年ぶりに雪が降り、8 月には 4 つの台風が上陸し、東北や北海道に大きな被害をもたらしました。③特に熊本県は自然災害の被害をたびたび受けました。今後も、わたしたちは自然災害に備えた生活について考えていく必要があるでしょう。

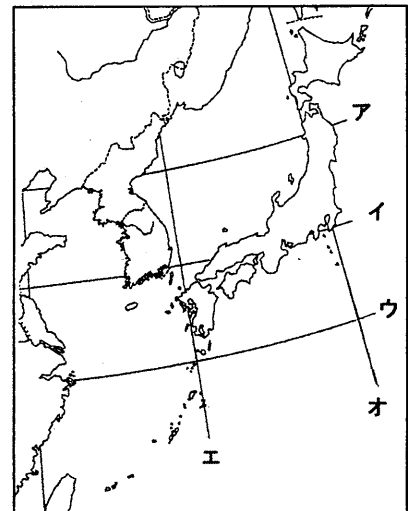
問 1 文中の（ ）にあてはまる言葉を答えなさい。ただし（ 2 ）は風向きを 8 方位で答えなさい。

問 2 文中の〔A〕、〔B〕それぞれにあてはまる方位の組み合わせとして正しいものを 1 つ選び、記号で答えなさい。

	ア	イ	ウ	エ
A	北	南	東	西
B	南	北	西	東

問 3 下線部①について、右の図から北緯 35 度線を 1 つ選び、記号で答えなさい。

問 4 下線部②について、本州にはこの 2 つのプレートの境界線が通っています。その境界線名を解答欄に合うように漢字で答えなさい。



問 5 下線部③について、実際に起こった自然災害を 1 つ選び、記号で答えなさい。

- ア 4 月には益城町で最大震度 7 の内陸型地震が起こり、津波が発生した。
- イ 6 月には阿蘇地方で記録的な大雨が降り、土砂崩れが発生した。
- ウ 10 月には阿蘇山の爆発的噴火が起こり、登山客が噴石による被害を受けた。
- エ 12 月には阿蘇地方を記録的な寒波が襲い、雪害による被害を受けた。

〔 2 〕 日本の観光について述べた次の文章を読み、各問に答えなさい。

日本には世界中から観光客が訪れています。2016年の訪日外国人観光客数は前年比21.8%増の約2404万人でした。このうちアジアから訪れる人の割合が8割を超え、①中国・韓国・台湾・香港・アメリカ合衆国の順に多かったようです。では、この数年で日本へ訪れる外国人観光客が増えたのはなぜでしょう。(X) 省観光庁の観光白書によると、クルーズ船寄港数の増加や②航空路線の増加、これまでの継続的な訪日旅行プロモーション(※1)、ビザの緩和(※2)、③免税制度などが主な外国人観光客が増えた理由として考えられています。そして彼らが日本へ訪れSNS(※3)などで映像を配信することが、さらにプロモーションとなっているようです。④彼らは、自然、歴史・文化、温泉、世界遺産、グルメ、テーマパークなど、さまざまな目的で訪れています。これらの目的は私たち日本人と同じです。

日本国内における観光客の交通手段は、2000年代まで(Y)の利用割合が50%以上でした。しかし、2015年には(Y)の利用割合は40%を下回りました。一方、(Z)の利用割合は増加傾向にあり、2015年には25%を上回りました。これらの背景には、20~30代の(Y)離れや、2010年以降、観光における(Z)利用の利便性の向上や設備の充実した豪華な(Z)の増加などが考えられます。

将来、⑤日本の人口は減少し続け、また産業の空洞化も進んでいくと言われています。世界中から日本へ観光客が訪れることは、日本経済においてとても重要なことなのです。

※1 日本各地の観光地を宣伝し、意識や関心を高めようとする事。

※2 日本入国を許可する証書を取りやすくすること。

※3 ソーシャルネットワーキングサービス。インターネットで社会的つながりを広げていくサービス。

問1 文中の(X)にあてはまる省名を漢字で答えなさい。

問2 文中の(Y)(Z)にあてはまる交通手段をそれぞれ選び、記号で答えなさい。

ア 列車 イ 自家用車 ウ 客船 エ バス オ タクシー

問3 下線部①について、これらの国や地域について説明した文として誤っているものを1つ選び、記号で答えなさい。

ア 中国は現在、アメリカ合衆国に次いで二酸化炭素排出量が多い国である。

イ 韓国のプサンと対馬との最短距離は、福岡市と対馬との最短距離より短い。

ウ 台湾のタイペイと与那国島との最短距離は、那覇市と与那国島との最短距離より短い。

エ 香港は政治や経済のしくみで中国とは異なる一国二制度を行っている。

問4 下線部②について、理由の一つとして安い運賃で就航する航空会社の参入があげられます。このような格安航空会社のことを何といいますか。アルファベット3文字で答えなさい。

問5 下線部③について、外国人観光客が免税される税とは何税ですか。漢字で答えなさい。

問6 下線部④について、日本人は「日本三〇〇」が好きです。例えば日本三景(天橋立・安芸の宮島・松島)や日本三名園(後楽園・偕楽園・兼六園)は、みなさんも知っていると思います。次のA~Eの文はこれら6つの名所があるいずれかの都道府県や都市について述べたものです。A~Eの文で述べられていない名所がある都道府県名を答えなさい。

A 鉄鋼業や石油化学工業が盛んな水島コンビナートがある。

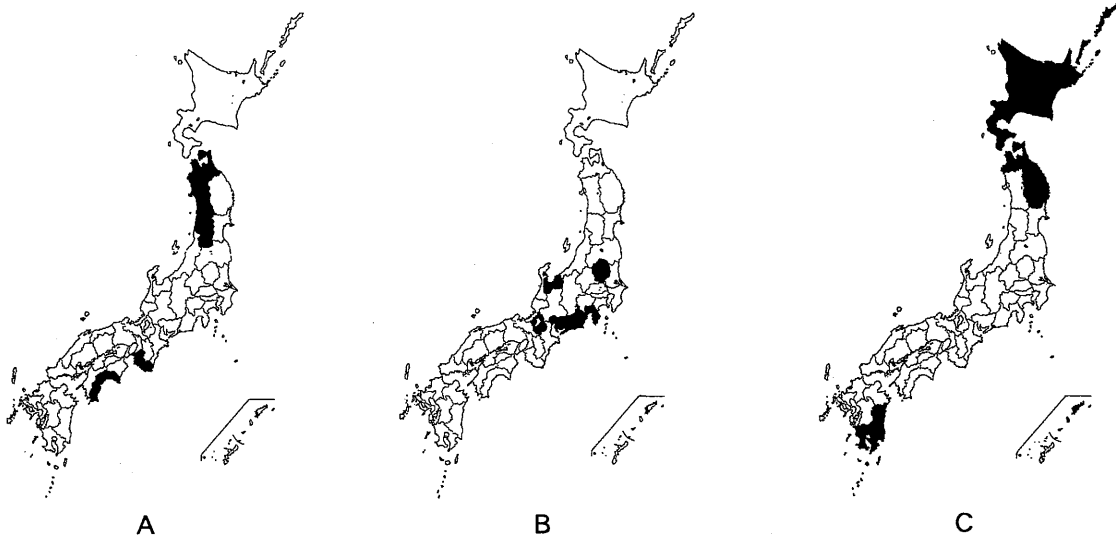
B メロンやレンコンの収穫量が全国一位(2015年)である。

C カキの養殖が盛んで、水揚げ量が全国一位(2015年)である。

D 「杜の都」と呼ばれ東北地方で人口最大の都市がある。

E 「加賀百万石」の城下町から発展した都市がある。

問7 下線部⑤について、次のA～Cの地図は、日本の「人口減少率」、「第二次産業人口比率」、「食料自給率生産額ベース」について、それぞれ上位5県を示したものです。正しい組み合わせのものを1つ選び、記号で答えなさい。



	ア	イ	ウ	エ	オ	カ
人口減少率 (2015-2016年)	A	A	B	B	C	C
第二次産業人口比率 (2012年)	B	C	A	C	A	B
食料自給率生産額ベース (2014年度)	C	B	C	A	B	A

『データブック オブ・ザ・ワールド 2017』『データでみる県勢 2017』より作成

〔3〕日本の農業の歴史に関する次の各文章を読み、各問に答えなさい。

- 弥生時代に①水田による米づくりが広がりました。そのため縄文時代にはなかった②新しい道具が弥生時代には使用されるようになりました。春の田起こしから秋の収穫まで、水田や用水路の管理のため共同作業を行うムラができ、人々をまとめる首長が生まれてきました。やがて権力をもった首長たちは、小さなムラをしたがえるようになりクニができました。これらのクニの中でも大きいものが③女王卑弥呼が率いた邪馬台国です。
- 古墳時代になると、農具に鉄が広く使われるようになったため④土木技術が進み、新しい田が開かれ、米の生産量が増えました。6世紀の大和朝廷の時代には米の収穫がさらに増え、7世紀になると朝廷は国から人々に田を貸し与えるかわりに、⑤税を納めさせる制度をはじめました。しかし奈良時代になると、その制度の運営がうまくいかなくなりました。
- 鎌倉時代になると、牛や馬にすきを引かせて農地を深く耕したり、⑥肥料をまく技術が西日本に広まり、収穫が増えていきました。また⑦二毛作も広まっていきました。鎌倉時代後期から南北朝の動乱の中で、近畿地方やその周辺部で荘園領主の力が弱まり、農民たちが惣という自治組織をつくっていきました。
- 江戸時代になると、⑧農具の開発や発明、新しい肥料の流通などによって、農作業の効率がさらに上がりました。幕府や藩は有力商人の協力などを得ながら新田開発を行い、米の増産をはかりました。また米以外のさまざまな商品作物もつくられ、⑨整備された交通網を通じて各地に運ばれていきました。8代将軍に登用された⑩ある学者は、飢饉に備えてサツマイモの栽培を普及させました。
- 1930年に米が大豊作となり、米の値段が急落しましたが、翌年は逆に大凶作となりました。これにより東北地方を中心として多くの農家が苦しみました。1920年代後半から始まっていた不景気も加わり、日本の政治や社

会は不安定となり、軍部が台頭する一方で、⑩政党政治が崩壊しました。やがて日本は中国で戦争を起こし、さらに太平洋戦争に突入していきました。終戦後、アメリカを中心とする占領軍のもとで、民主化政策の一環として⑪自作農を増やす政策が実施されました。

問1 下線部①について、1947～1950年の大規模な発掘によって、水田を含む農村集落が確認された遺跡として正しいものを1つ選び、記号で答えなさい。

- ア 登呂遺跡 イ 唐古・鍵遺跡 ウ 吉野ヶ里遺跡 エ 板付遺跡

問2 下線部②について、弥生時代の初めからイネの穂をつむ道具として、使われていた石器は何か答えなさい。

問3 下線部③の女王には、魏の皇帝から金印とともに青銅器が大量に贈られました。1998年に奈良県の黒塚古墳から30ほど発見され、この時に贈られたものではないかと話題となりました。それを1つ選び、記号で答えなさい。

- ア 銅鐸 イ 銅鏡 ウ 銅剣 エ 馬具

問4 下線部④の技術は、古墳を造る際にも応用され、5世紀ごろに全長300mを超える巨大古墳も出現しました。次の中から全長300mを超える古墳が存在する府県を1つ選び、記号で答えなさい。

- ア 宮崎県 イ 岡山県 ウ 京都府 エ 群馬県

問5 下線部⑤について、次の各問に答えなさい。


- (1) これらの税のうち、収穫した米の一部を納める税を何といいますか。漢字で答えなさい。
 (2) 日本の歴史の中で、米を税として国や支配者に納めるしくみを最終的に廃止することになった政策は何ですか。漢字で答えなさい。

問6 下線部⑥について、鎌倉時代に使用がはじめた肥料として正しいものを1つ選び、記号で答えなさい。

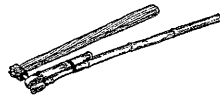
- ア 油かす イ 人の糞尿 ウ 干したイワシ エ 草や木を焼いた灰

問7 下線部⑦について、鎌倉時代から室町時代にかけては、米の品種改良も進み、収穫時期に応じて3種類に分けられました。最も早い時期に収穫できる品種を何といいますか。

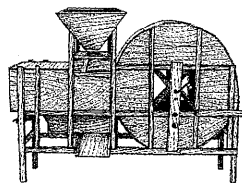
問8 下線部⑧について、江戸時代に中国から伝わった農具で、風の力により玄米ともみ殻を分ける道具を次の図の中から1つ選び、記号で答え、その道具の名前も答えなさい。(図の縮尺は一定ではありません)



ア



イ



ウ



エ

『[絵引] 民具の辞典【普及版】イラストでわかる日本伝統の生活道具』より

問9 下線部⑨について、交通網の整備と収入の増加により、余裕のできた人々の間で信仰と娯楽をかねた旅が流行しました。そうした中でも、現在の三重県にある名所への旅は人気がありました。その名所の中心となる施設名(総称)を答えなさい。

問10 下線部⑩の学者は後に蘭学を学ぶようになりました。おもに蘭学を教えた大坂の学校で、福沢諭吉も学んだことで有名な学校を1つ選び、記号で答えなさい。

- ア 修猷館 イ 鳴滝塾 ウ 適塾 エ 松下村塾

問11 下線部⑪のきっかけとなった、1932年におきた首相が殺害された事件は何ですか。

問12 下線部⑫の政策を何といいますか。漢字で答えなさい。

〔4〕次の文章を読み、各問に答えなさい。

最近、世界の中で分断が深まっているという指摘^{してき}があります。

昨年1月に就任したトランプ米大統領は「米国第一主義」を掲げ、①TPPや②地球環境^{かんきょう}を守るためのパリ協定からの脱退^{だつたい}などそれまでの米国がとってきた重要な政策^{せんさく}を変更^{へんこう}してきました。

一方、ヨーロッパでは③イギリスが2016年に④EU（ヨーロッパ連合）からの離脱^{りだつ}を決めました。また、移民・難民^{はいせき}の排斥^{はいせき}を掲げる政党が支持を広げるなどの動きもあります。

こうした問題の背景は多様ですが、⑤経済的な格差の拡大や国家間の対立、テロなどが人々の不安をかきたて、特定の人々への差別や排斥を助長しているといわれています。

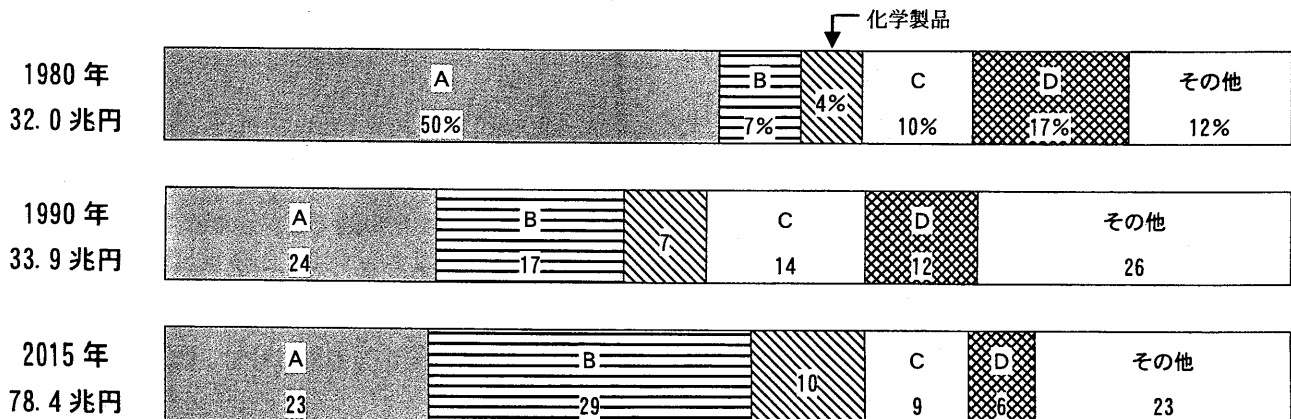
また、⑥インターネットなどを通じて偽りのニュース^{いつわ}が流され、それがいっそう人々の敵意をあおるようなことも起きています。このまま世界は分断と混乱を深めてしまうのでしょうか。しかし、これまでも人々に冷静な考え方や行動を求める意見もありました。その一つの例を紹介したいと思います。

著作権の関係により、挿入文を非公開とします。

グローバル化が進み、インターネット等で人々のつながりが広まっている今こそ、これを実現する条件がつけられているのかもしれませんが。

※ 社会について新たな考え方をもつ人々のこと

問1 下線部①は、貿易の自由化を1つの柱としていますが、貿易の内容はその国の産業構造の変化に伴^{ともな}って変わってきました。次の図は、1980年、1990年、2015年における日本の品目別の輸入額の割合を示したものです。図中のA～Dには下のア～エのいずれかが入ります。Bが示す輸入品目を1つ選び、記号で答えなさい。



「JETRO 貿易統計」より作成

ア 原料品 イ 原油など燃料 ウ 機械類 エ 食料品

問2 下線部②について、次の各問に答えなさい。

(1) 地球環境を守り、資源を使い切ってしまうないようにして、未来に生きる人々の幸福も考える社会のあり方のことを何といいますか。解答欄に合うように漢字4字で答えなさい。

(2) パリ協定について述べた文として最も適当なもの1つ選び、記号で答えなさい。

ア 有害な紫外線量の増大を抑えるために、フロンガスの排出量を減らすことを目指しています。

イ 世界の気温上昇を抑えるために、温室効果ガスの排出量を減らすことを目指しています。

ウ 絶滅が心配される生物を保護するために、その生物を捕獲したり、売買することを禁じる取り決めです。

エ 国境を超えた大気汚染を防ぐために、有害なPM2.5などの微粒子の排出を制限するための取り決めです。

問3 下線部③の国は議院内閣制をとっていますが、この国の政治や経済について述べた次の各文の中で、誤っているものを1つ選び、記号で答えなさい。

ア EUに加盟していますが、共通通貨ユーロは使用してきませんでした。

イ 国民に選ばれる下院で内閣不信任が決まると、内閣は総辞職するか下院を解散しなければなりません。

ウ 政治上重要な問題について、国民投票を行って賛否を問うことがあります。

エ アメリカ合衆国などと軍事同盟を結び、核兵器を保有せずに国の安全保障を図っています。

問4 下線部④に関連して、イギリスには日本の自動車メーカーも進出していますが、イギリスがEUを離脱すると、日本の自動車メーカーにとって不利になると考えられます。それはなぜですか。その理由を説明した次の文の空欄にあてはまる言葉を答えなさい。

イギリスからEU諸国に輸出する自動車に（ ）がかかるようになるから

問5 下線部⑤について、イギリスなどでは移民の受け入れが経済的な格差の拡大につながるとして、受け入れに反対する理由の1つになっています。その理由を説明した次の文の空欄にあてはまる言葉を答えなさい。

移民を受け入れると、イギリス人労働者の（ ）と考えるから

問6 下線部⑥について、インターネットだけでなくテレビ・新聞なども含めて、伝えられる情報の中から必要な情報を自分で選び出し、内容の正しさを確認し、活用する能力や技能のことを何といいますか。

問7 下線部⑦について、日本国憲法が保障する自由権について述べた次の各文の中で、最も適当なものを1つ選び、記号で答えなさい。

ア 精神活動の自由として、思想・信教の自由のほかに学問の自由も保障されています。

イ 表現の自由を保障するとともに、プライバシーの権利を保障する条文がもうけられています。

ウ 自由な経済活動のために、財産権や団結権、職業選択の自由が保障されています。

エ 集会・結社の自由は、社会に与える影響が大きいので、「法律の範囲内で」という条件が付いています。

問8 下線部⑧について、ヴァイツゼッカー大統領の演説の背景となった「真実」として適当なものを1つ選び、記号で答えなさい。

ア 大きな自然災害の中で、外国人が暴動を起こしたといううわさが広まり多くの人が殺害された。

イ 特定の民族や障がいのある人々が迫害され、多数が殺害された。

ウ アフリカ系の人々が強制的に連れてこられ、奴隷として働かされた。

エ 毒ガスや核実験などの影響によって、多くの人が亡くなったり、重い障がいを負ったりした。

〔 以 下 余 白 〕

2018年度 第2回	社 会	受験番号	座席番号	氏名	
			

[1]

問1 (1)	(2)	問2	問3	
問4	構造線	問5		小計

[2]

問1	省	問2Y	Z	問3	問4	
問5	税	問6	問7			小計

[3]

問1	問2	問3	問4	
問5 (1)	(2)	問6	問7	
問8記号	名前	問9		
問10	問11	問12		小計

[4]

問1	問2 (1)	な 社 会	(2)	問3	
問4	問5					
問6	問7	問8				小計

合 計	
-----	--